

CDA DE LA CIUTAT DE TARRAGONA

Tàrraco des de l'aire

Material de l'alumnat (CS, ESO)



TARRACO
COLONIA IULIA URBS TRIUMPHALIS



Generalitat de Catalunya
**Departament
d'Ensenyament**

Camp d'Aprenentatge de la ciutat de Tarragona

Complex Educatiu de Tarragona

Autovia de Salou s/n

43006 Tarragona

Autors: Núria Montardit Bofarull

Marta Panadès Manresa

Núria Roig Font

Jordi Tortosa Giménez

Dibuixant: Hugo Prades

DL: T-1685-2014

Edita: Camp d'Aprenentatge de la ciutat de Tarragona

Edició: febrer 2015

MATERIAL DE L'ALUMNE/A

NOM

TÀRRACO

Tàrraco es va construir sobre un turó rocós a uns 80m d'alçada, inclinat fins al mar.

LA MURALLA

La ciutat es va tancar mitjançant una muralla que configurava l'espai:

- Intramurs, és a dir _____ la muralla.
- Extramurs, és a dir _____ la muralla.



Completa les frases anteriors amb **dins** o **fora**, segons correspongui.



Observa la ciutat de la pàgina següent i marca tot el recinte emmurallat.



Ara, compta el número de:

- Portes _____
- Torres _____. Actualment, només en resten 3.
En quina zona es trobaven?
- Com eren? Marca la resposta correcta:

quadrades, circulars, semicirculars, poligonals.

La longitud de la muralla sembla que feia uns 4.800m, dels quals en queden 1.200m.




Marca d'un altre color la zona que encara tenim, a la part superior, des del circ, donant tot el tomb.

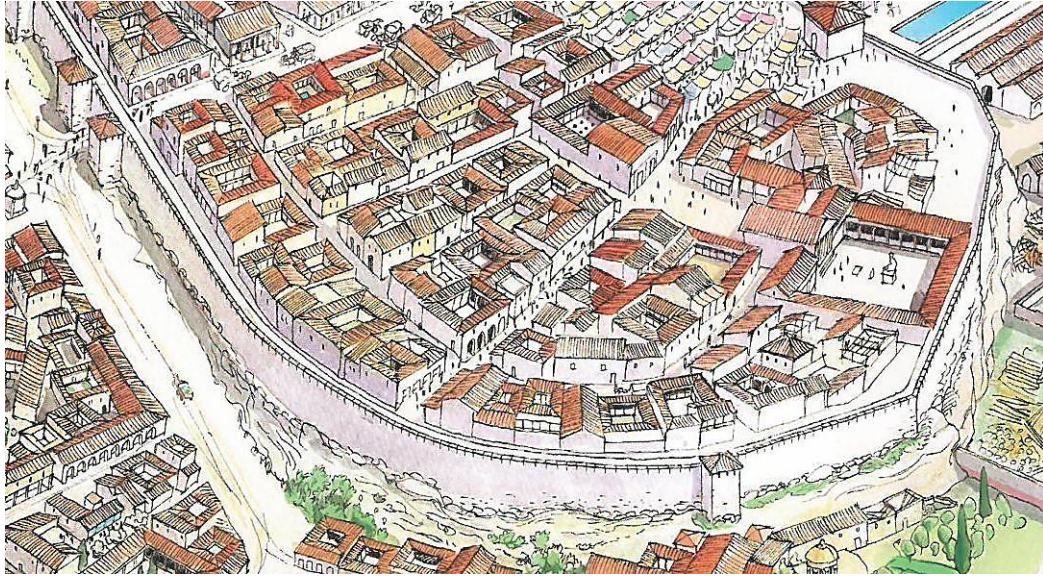


Fixa't en els següents aspectes:

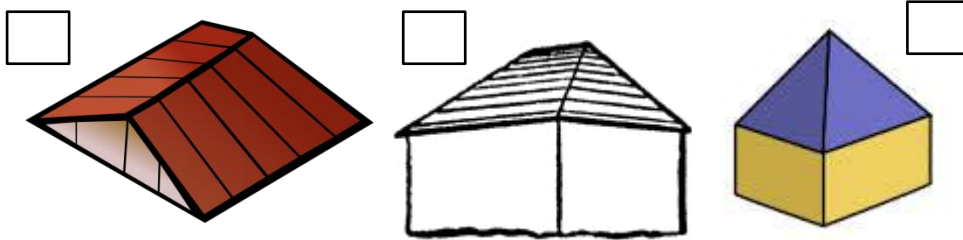
- Les **rampes** d'accés de la maquinària bèl·lica i els soldats.
Encercla-les.



- El **pas de ronda**, el camí que permetia circumval·lar tota la muralla per la part de dalt. Marca'n un tros de torre a torre.



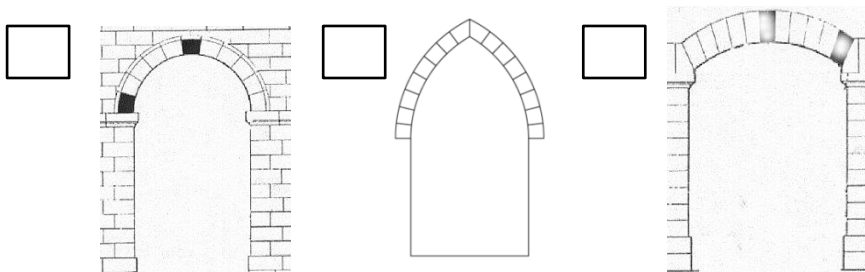
- La **teulada** de les torres era:



Coberta amb:

- Teules planxes de ferro fusta

- Les **portes d'accés** a la ciutat tenien la forma:



- Estaven flanquejades per:

- 2 torres 3 torres 1 torre

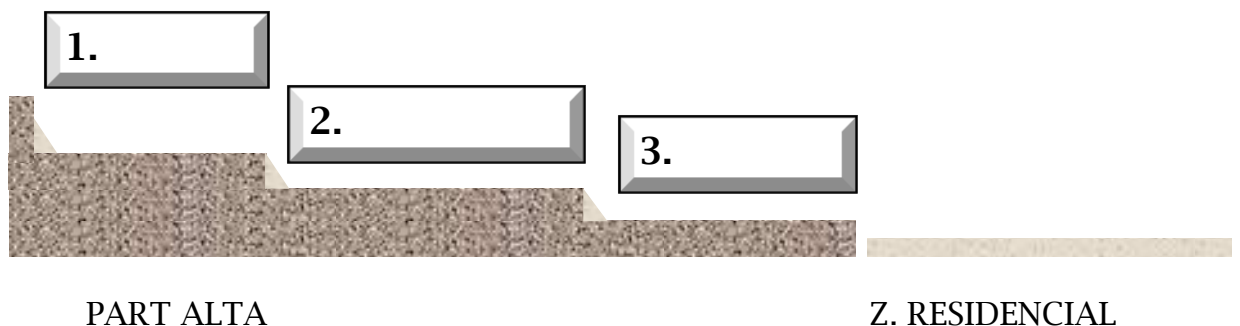
PARTS DE LA CIUTAT

Per la disposició de la ciutat, podem diferenciar-ne 3 parts:

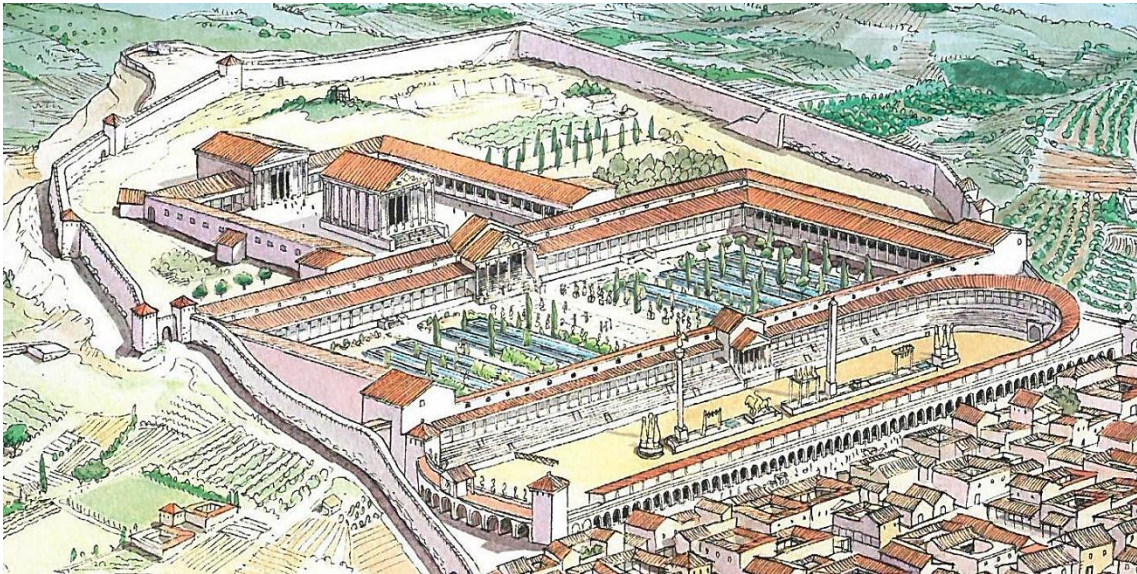


1. PART ALTA

La part més elevada de la ciutat va recollir 3 edificacions destinades a la funció de Tàrraco com a capital de la província d'Hispania Citerior. De dalt a baix, esglaonadament, hi havia:



- 1.1. **Recinte de culte:** primera plaça, amb un gran temple central, dedicat a August, envoltat per un pòrtic.
- 1.2. **Plaça de representació:** segona plaça en un nivell inferior, destinada a l'administració provincial, com a oficines on guardar la documentació, els diners...
- 1.3. **Circ:** recinte de curses de carruatges estirats pels cavalls i conduïts pels aurigues, situat en un nivell més baix.



Posa el nom a les parts de l'esquema anterior i aquestes parts del dibuix:

- Temple d'August
- Plaça de culte
- Plaça de representació
- Circ




Observa el **temple** i tria les paraules correctes:



- El temple es troba **elevat/enfonat** sobre una base.
- Compta amb **7/8** columnes a la façana.
- L'accés es produeix mitjançant unes **escales/rampes**.



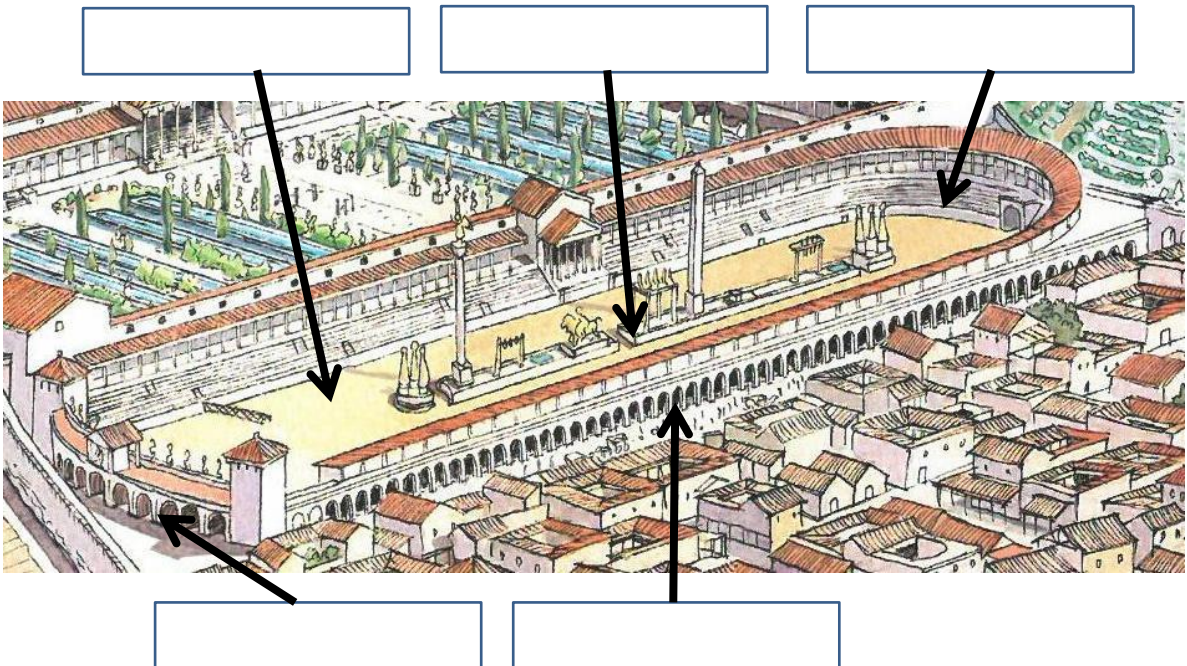
Fixa't amb la **plaça de representació** i completa les frases:



- La forma de la plaça és _____
 - Les dues places es comunicaven per mitjà de _____
 - El centre de la plaça comptava amb _____
- _____
- com elements decoratius i simbòlics.



Com era el **circ**?



L'edifici estava dissenyat per a la realització de les curses. Marca al dibuix:

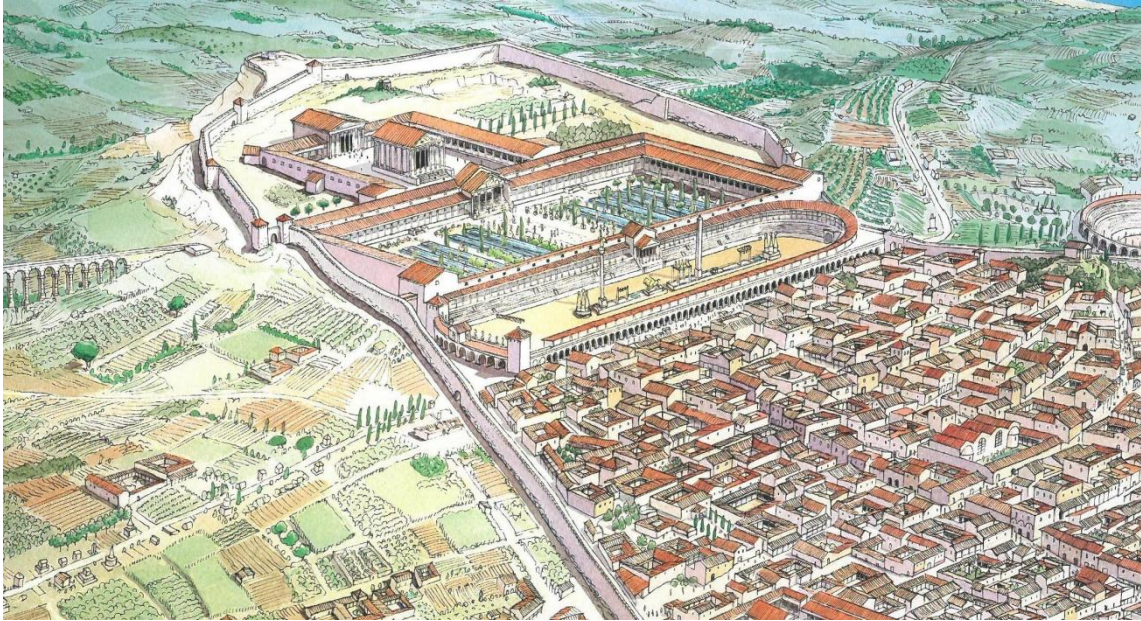
- La façana, formada per 57 portes.
- La pista (*arena*), on corrien els carros.
- Les grades (*cavea*), on s'asseia el públic.
- Les portes de sortida dels carros (carceres).
- L'espina (*spina*), l'eix central de divisió de la circulació.

2. ZONA RESIDENCIAL

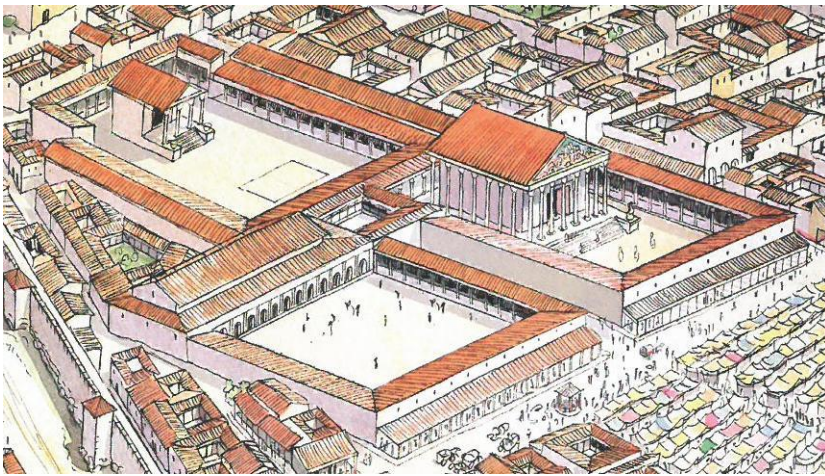
La part alta i la zona residencial estaven separades per la via Augusta, que creuava la ciutat per aquest sector.



Marca tota la **via Augusta** que vegis a la imatge (que comunicava la costa des de Roma fins a Cadis):



En aquest espai es concentrava la majoria de la població de Tàrraco (al voltant de 40.000 habitants). La gent vivia en diferents tipus de cases, segons la seva condició econòmica. En un lloc preferent, se situaven els edificis públics:



2.1. Fòrum de la colònia: és a dir les places principals de la ciutat, formades per les següents parts:



Marca-les al dibuix.

- El gran temple de la

tríada Capitolina (Júpiter, Juno i Minerva).


- La **basílica**, sala destinada a les reunions municipals i als judicis.
- **Mercat**.



Respon:

- Quantes places formaven el complex?
- I temples?

2.2. El teatre, annex al complex anterior. L'edificació constava de:



Marca en color cada part:

- **Les grades**, on s'asseien els espectadors, en blau.
- **La façana**, que també era el decorat de l'escena, en groc.
- **El pati d'accés**, enjardinat, en verd.




Estava dins o fora de les muralles?

2.3. **Les termes:** les autoritats i empreses privades van construir termes públiques, és a dir instal·lacions destinades al relax i la higiene. Allí trobaven banyeres i/o piscines de diferents temperatures, on realitzar l'agradable ritual del bany.



Localitza al dibuix general aquestes termes i encercla-les en blau, les que se situen dins muralla i en vermell, fora.



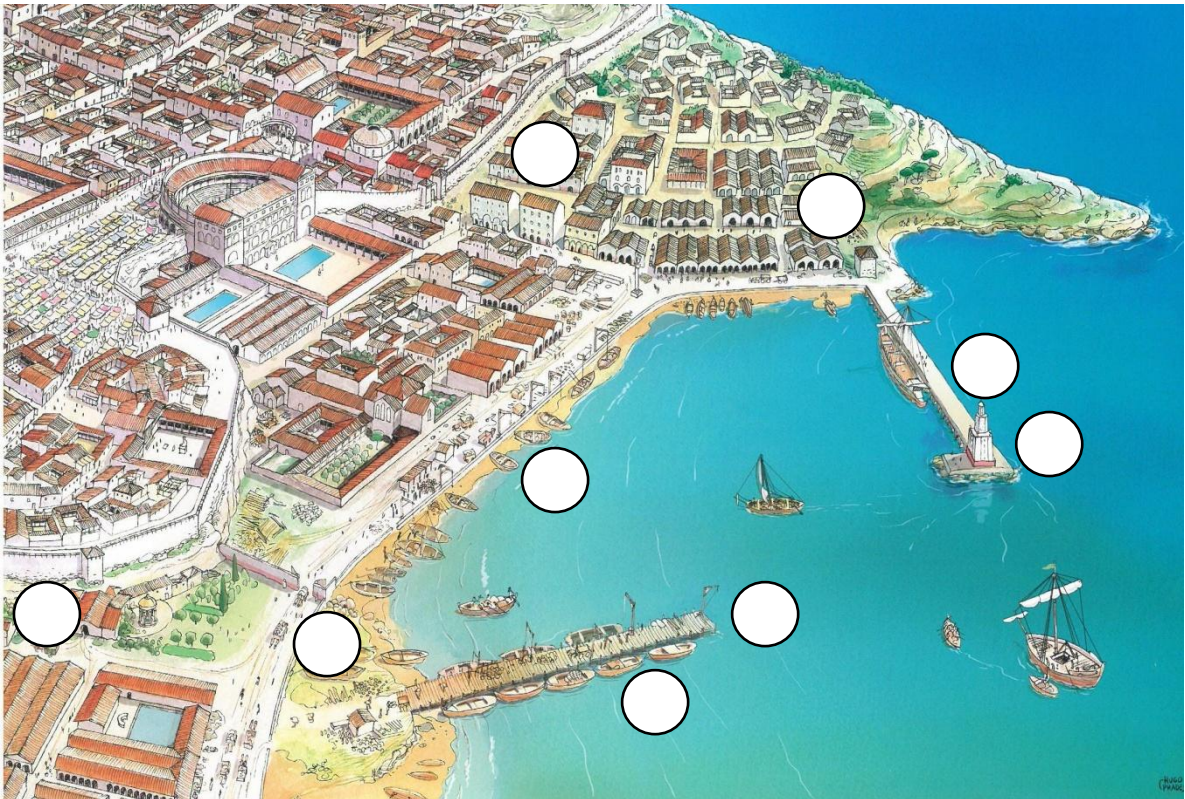
- Quins elements veus que tenien en comú?
- Quines dimensions sembla que tenien en comparació amb d'altres edificis?

3. ZONA PORTUÀRIA

L'espai proper al mar, sota un promontori rocós, allotjava nombroses construccions vinculades amb el treball portuari.



Posa el número que li pertoqui:



1. Els magatzems, naus destinades a guardar els productes comercials i les drassanes.
2. Les *insulae*, cases de pisos dels treballadors.
3. Grues.
4. L'espigó de fusta.
5. L'espigó de pedra.
6. La platja.
7. L'accés controlat.
8. El far.

L'aigua esdevé un element indispensable, no només per a la realització d'algunes feines, sinó també per a les necessitats dels mariners, en els seus llargs viatges, així com per a la seva neteja a l'arribada.



Assenyala tots els elements que estan relacionats amb l'aigua potable.



Els vaixells grans on s'havien de situar? Per què?

4. ZONES SUBURBANES

L'àrea fora muralla combinava diferents funcionalitats:

- La industrial:** amb instal·lacions contaminants, com empreses de ceràmica, tintoreries, salaons, metal·lúrgia...
- L'agrícola,** amb conreus de secà i d'horta, per abastir la ciutat.
- La funerària,** situant els enterraments al llarg de les vies.
- La lúdica,** en trobar-s'hi l'amfiteatre, prop de la platja, on es feien els espectacles de caceres d'animals i de lluites de gladiadors.
- La subministradora d'aigua potable,** mitjançant els



aqüeductes o conduccions que la transportaven fins a la ciutat.



Busca un exemple de cada i marca-ho al dibuix.