


8. Marca en diferents colors les etapes constructives (cada segle d'un color diferent).



Camp d'Aprenentatge de la ciutat Tarragona

Autors: Nùria Montardit Bofarull

Marta Segura Pont

Jordi Tortosa Giménez

M. Joana Virgili Gasol

ISBN: 978-84-693-2595-7

LA MAQUETA DE TÀRRACO. Treballs de camp

LA MAQUETA DE TÀRRACO

1. Observa la maqueta que ens reconstrueix com devia ser Tàrraco al segle II dC.
 - Marca a la imatge el perímetre de la muralla.
 - Uneix cada requadre amb la part de la ciutat que li correspon.
 - Després separa amb una ratlla cada sector :



1. Zona portuària

2. Zona residencial
(d'habitatges)

3. Part alta

4. Zones
suburbanes (fora de
muralls)

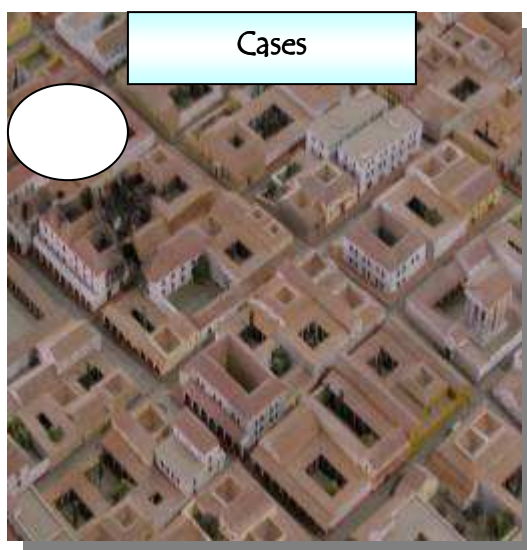
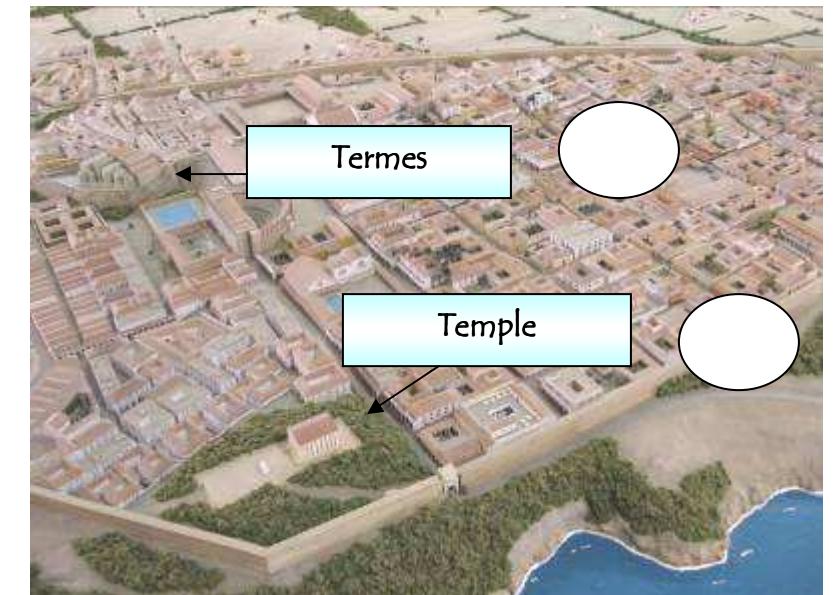
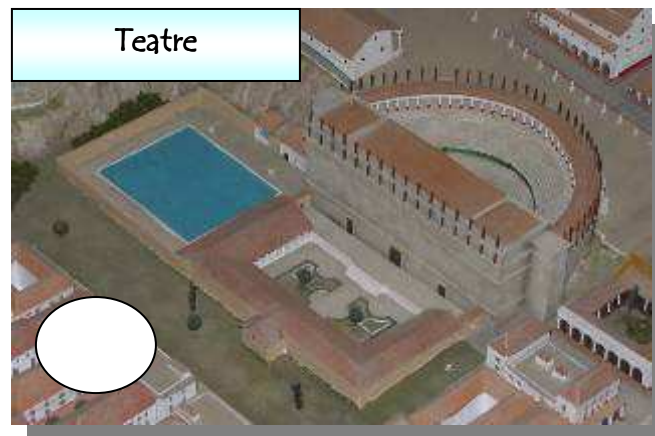


2. Situa cada edifici a la part de Tàrraco que li correspongui.

1. Part alta

2. Zona residencial (d'habitatges)

3. Zona portuària

4. Zones suburbanes (fora de muralles)



2. Completa aquest quadre, després d'observar detalladament la maqueta:

FORA MURALLES

Necròpolis:
Estan a
N'hi ha

Vil·les
Eren
.....

MURALLES

Construcció de defensa per a protegir la ciutat.
Número de torres
Quantes portes veus?.....
Queda oberta o tancada la ciutat?
Per on?.....

AQÜEDUCTES

La ciutat. Disposava de
aqüeductes, que eren les
conduccions que transportaven
l'aigua a la ciutat des dels rius
Gaià i

PART ALTA

Fòrum Provincial

1. Plaça quadrangular presidida per un
....., on es feien les cerimònies
religioses de la província, de la qual Tàrraco
era la capital.
2. Plaça rectangular envoltada per
edificacions amb porxos destinada a fer
d'arxiu, hisenda, etc., on es trobaven les
oficines que controlen la província. Al
centre de la plaça veig
.....
.....

Circ
Edifici amb forma
usat en les curses de
Serveix de divisió entre la part i la
part

ZONA PORTUÀRIA

Port
El conjunt està
format
per.....
.....
.....

Teatre:
Es va construir en la
zona aprofitant
.....
.....
El conjunt està
format per
.....
.....
.....

ZONA RESIDENCIAL

Part de la ciutat dins de la muralla destinada a contenir:

1. Les cases dels habitants de Tàrraco (uns 40.000)
2. Les botigues, tenderets, bars, tallers d'artesans, escoles, etc.
3. Els principals carrers de la ciutat que s'estructuraven en forma
.....
4. El Fòrum de la ciutat, una gran plaça envoltada d'edificis que s'usava
com a mercat, ajuntament, jutjat, temple, lloc de trobada i era el nucli
de la ciutat.. Es trobava prop de
5. Les termes o banys públics, on hi anaven tots els ciutadans a diari a
....., es poden identificar fàcilment perquè tenen
cúpules (cobertes semiesfèriques), en veig
6. Els temples, on els fidels feien les seves ofrenes (com unes cases amb
columnes), en compto

Aquesta part es troba sota

AMFITEATRE









Edifici de forma
on es feien espectacles de caceres de bèsties i lluites de
.....

VIA AUGUSTA

Carretera que enllaçava Roma fins a Cadis per la
costa. A Tàrraco passava per

.....
.....

4. Situa cada escena en la part de Tàrraco que li correspongui: 1. part alta, 2. Zona residencial, 3. zona portuària i 4. fora muralles.



5. Situa cada personatge a l'edifici que li pugui correspondre:

circ, amfiteatre, carrer, fòrum, temple, botiga, *domus* (casa unifamiliar rica), *insula* (casa de pisos de pobres), necròpolis, via, taller, teatre, taverna, termes, font, barberia, oficines, port, biblioteca
























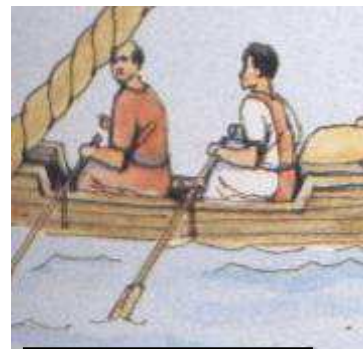






















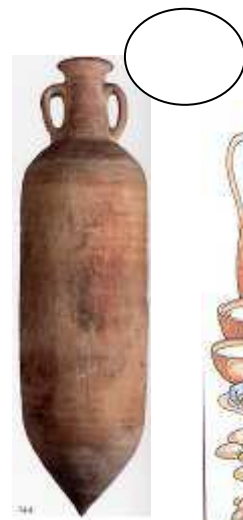
6. Identifica aquests objectes i després pensa en quina zona de la ciutat s'usarien més habitualment: : 1. part alta, 2. Zona residencial, 3. zona portuària i 4. fora muralles.




[]




[]



[]




[]



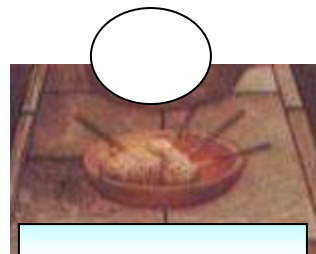
[]




[]



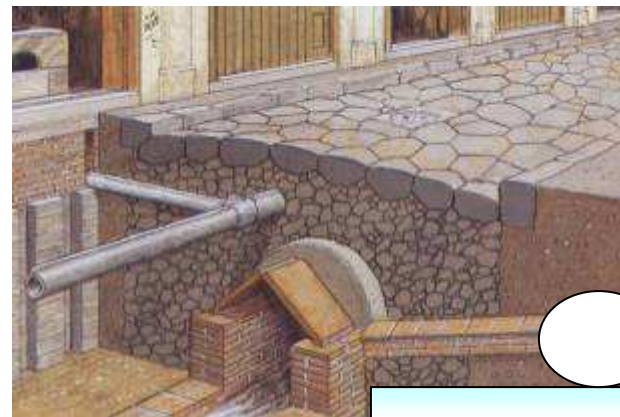
[]



[]



[]



[]



[]




[]



[]



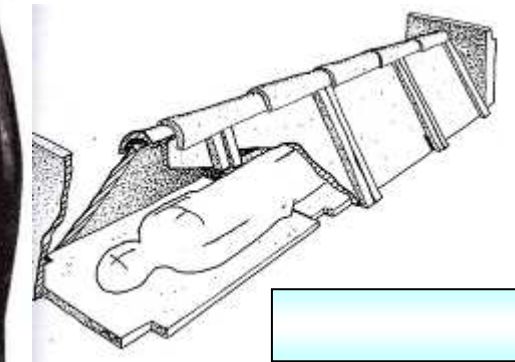
[]



[]




[]



[]

7. Saps identificar aquestes restes? Posa el seu nom al costat.

Pretori, muralles, circ, amfiteatre, fòrum de la ciutat



8. CURIOSITATS: Marca les frases que cregueis que són vertaderes amb una V i amb una F, les falses.

Un greu problema de les ciutats romanes era el perill d'incendis, en construir les cases amb estructura de fusta, per això hi ha una illa de cases cremada.

V F

La ciutat de Tàrraco té un gran llac subterrani, sota el Fòrum de la ciutat, que bastia d'aigua el port.

V F

La plaça gran del Fòrum Provincial mesurava 40.000 ha., l'equivalent a 8 camps de fútbol.

V F

Tàrraco va ser la capital de la província més gran de l'Imperi. El seu territori abraçava més de la meitat de la Península Ibèrica.

V F

La ciutat estava creuada subterràniament (de dalt a baix) per una claveguera que arribava fins al mar.

V F

Tàrraco tenia tres fòrums.

V F

Els cementiris, necròpolis, es construïen fora de la muralla per qüestions d'higiene i seguretat (per la por al foc). Es col·locaven al llarg de les vies, perquè els viatgers poguessin tenir un record pels difunts.

V F