

EL VOL DE L'ESPARVER

HISTÒRIA DEL MONTSIÀ

Àmbit URBÀ-HISTÒRIC

1



Amb la col.laboració de:

Museu de les
Terres de l'Ebre



CONFICON
Turisme i tradicions

Quadern de treball
Cicle Mitjà i Superior de Primària

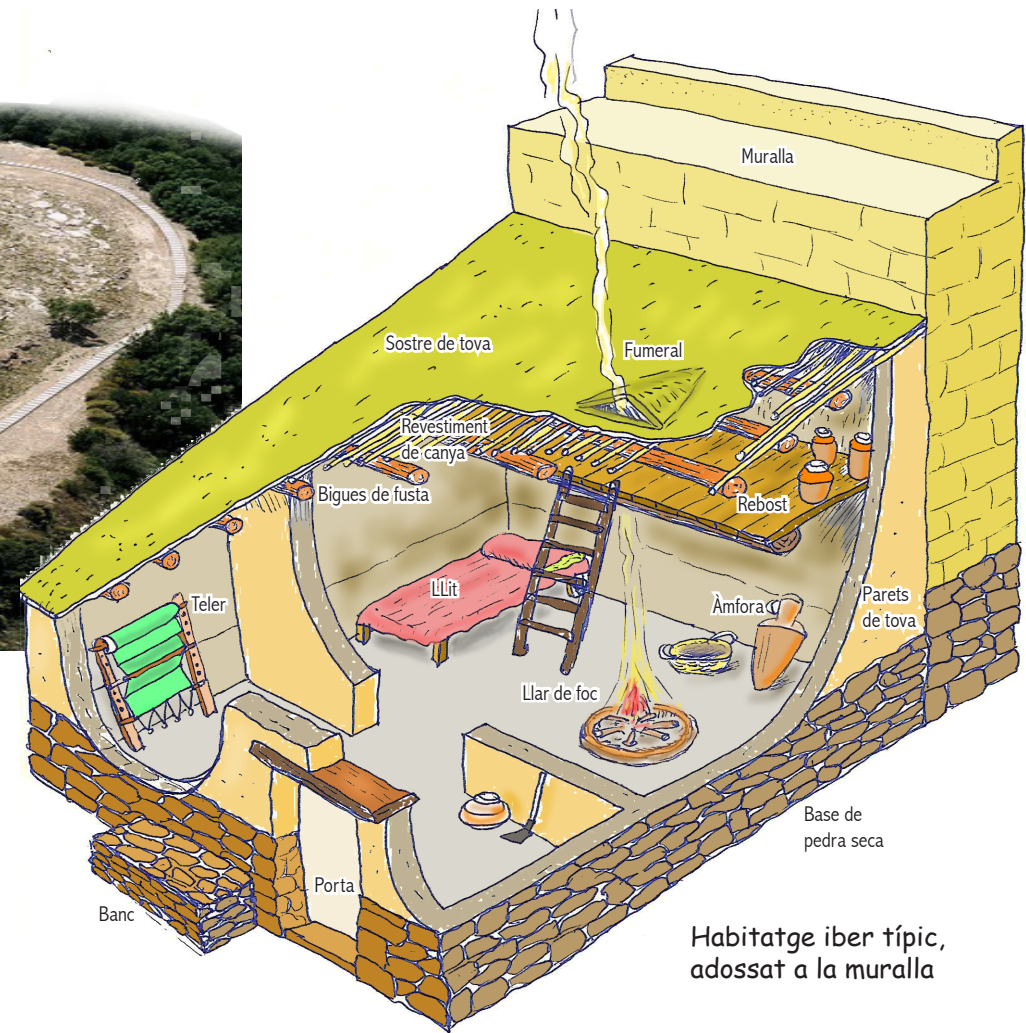
Camp d'Aprenentatge del delta de l'Ebre




s.V a.C.: Poblament ibèric de la Moleta del Remei



Imatge: Oficina municipal de turisme de Les Cases d'Alcanar



Habitatge ibèric típic, adossat a la muralla

 **Quin bon lloc per fer el niu! exclama l'esperver al veure les runes del poblament-castell ibèric. Fa tant i tant temps que aquí vivia la noblesa de la tribu dels iler-cavons!**

1 L'entrada. Hi havia porta? Com era?: _____

2 El magatzem. És una instal·lació comunal. Saps què s'hi emmagatzemava?

3 L'habitatge. Com era la calefacció i cuina de la casa? I on era?

4 La torre. Quin bon mirador! que hi veieu? _____

5  Per a què servia?:

6 La plaça. L'espai central era una esplanada o pati. Què creus que feien aquí?:

Pronunciació dels signes més utilitzats pels ibèrics del nord							
▷▷	a	◊	í	◀◀	ke	∩	to
↳	e	∩	n	∩	ki	△	tu
∩	i	∩	m	∩	ko		ba
∩	o	∩	?	◊◊	ku	∩∩	be
↑	u	∩	s	×	ta	∩	bi
∩∩	l	∩	s	◊	te	×	bo
∩∩	r	∩∩	ka	∩	ti	◊	bu

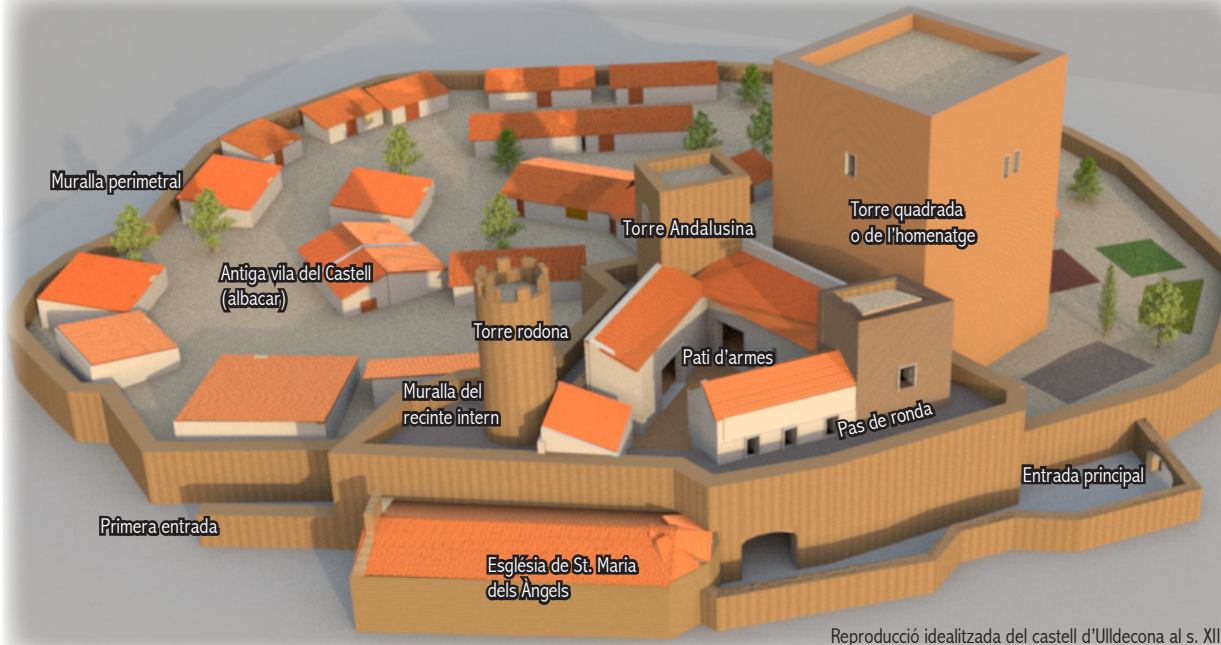
No hi ha signes dobles, el que passa és que alguns varien segons les inscripcions. Per exemple: ▷ i ∩ sonen [a], ∩ i ∩ sonen [i]...

Font: "La increíble ruta dels ibèrics. Museu d'Arqueologia de Catalunya. Departament de Cultura.

s. XIII: El castell d'Ulldecona



L'esperver s'atura damunt de l'impressionant torre de guaita: quina vista! des d'aquí no hi ha ratolí de camp que es mogui sense que el vegi!



Reproducció idealitzada del castell d'Ulldecona al s. XIII

Quins elements del paisatge que es veu des de la Torre de l'homenatge creus que es veien al s. XIII i quins es veuen ara.

Elements del paisatge	Abans	Ara
Els Ports		
Fàbriques		
Serra de Godall		
Torre andalusina		
Mar Mediterrani		
Vies comunicació BCN-València		

Serra del Montsià		
Ermita de la Pietat		
Població d'Ulldecona		
Antiga vila d'Ulldecona (albacar)		
Foia d'Ulldecona		
Torre rodona		

Explica el significat de le següents paraules:

Albacar: _____

Ronda: _____

Aljub: _____

Trapa: _____

Reliquia: _____

En quina data l'església es converteix en ermita?: _____

Com ho saps?: _____

10.000.aC 5.000.aC 3.000aC 1.000aC VaC any 0 s.V VI VII VIII IX X XI XII XIII XIV XV XVI XVII XVIII XIX XX

Neolític
Antic Egipte
Imperi romà s.III aC - 476
Regnes àrabs 711-1492
Descobriments d'Amèrica 1492
Revolució francesa 1789
Llagut
Ordinador personal 1977
Guerra dels Segadors 1640
Primera fàbrica de vapor 1833

Paleolític
Edat dels metalls
Visigots 476-711
Comtes de Barcelona 897-1410

s. XIX: Viure a la vora de l'Ebre



L'esperver ens porta al s.XIX a la vora del riu Ebre, que fins aquell moment era font, rebost, botiga, lloc de feina, carretera, ...

1 El bosc de ribera. Quina és la causa de la desaparició del bosc de ribera en molts llocs del riu?:

2 Treballar. Què és feia amb...

Fibres vegetals: _____

Argiles i fangs: _____

L'aigua: _____

3 Sortir de mare. Anota les tres riuades més importants:

Any: _____ alçada en metres: _____ Any: _____ alçada en metres: _____

Any: _____ alçada en metres: _____

4 Navegar. Quina ha estat l'embarcació fluvial més característica?: _____

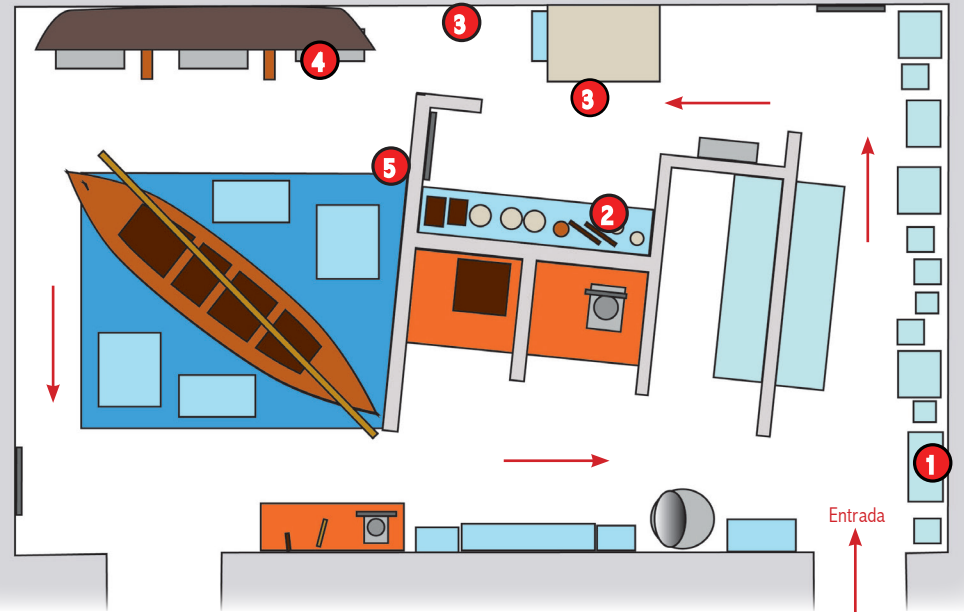
Què transportava riu amunt?: _____

I riu avall?: _____

5 Pescar. Quina va ser la darrera embarcació de pesca de l'Ebre?:

	Abans	Ara
Bosc de ribera		
Treballar		
Sortir de mare		
Navegar		
Pescar		

Exposició "L'Ebre, camí d'aigua". Museu de les Terres de l'Ebre



L'OBJECTE AMAGAT

Nom: _____

De quins materials està fet?: _____

Com és: forma, color, ...? _____

Per a què es feia servir?: _____

Què fem servir avui per fer el mateix?: _____

Dibuix



Amposta

Castell

Ulldecona

Foja
d'Ulldecona

Serra del Montsià

Delta de l'Ebre

Sant Carles
de la Ràpita

Moleta del
Renet

N