

LA RUTA DE LES BASSES

Àmbit DELTA

2



Quadern de treball
Cicle Mitjà i Superior de Primària

Amb la col·laboració de:



Camp d'Aprenentatge del delta de l'Ebre



Inventari d'ocells observats



Nom	Com es mou	On es troba

Neda, camina per terra, camina per l'aigua, es capbussa, vola ...

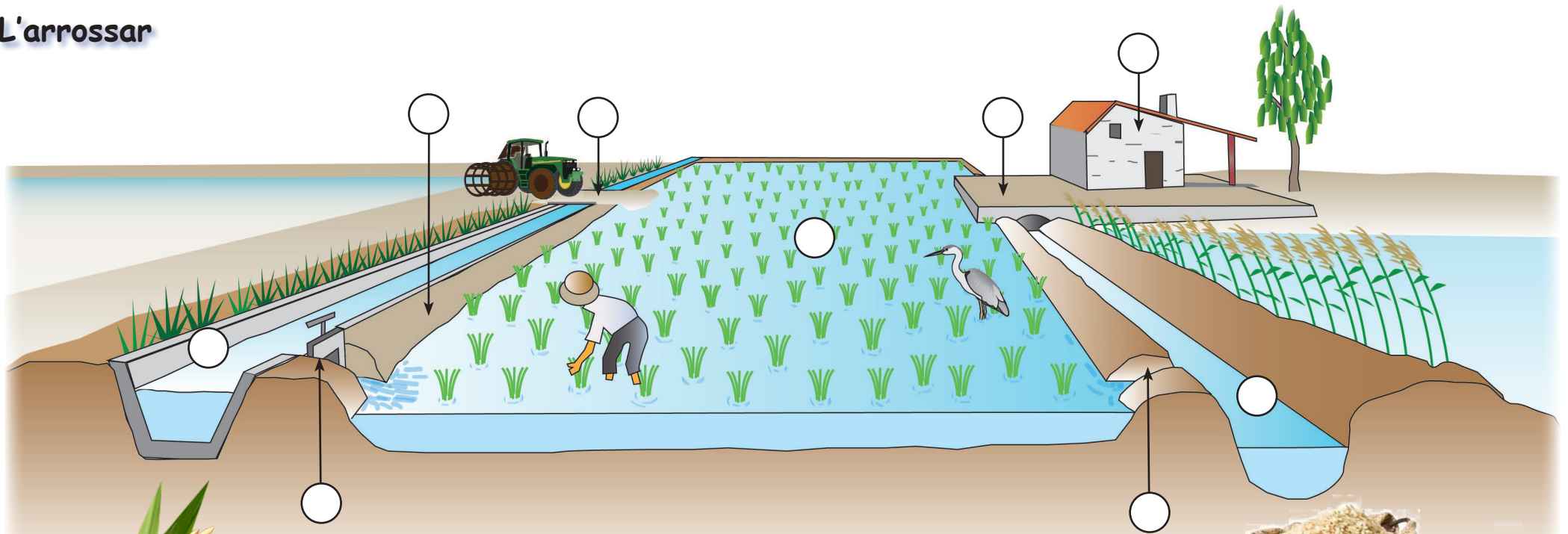
Arrossar, canal, bassa al mig, bassa a les vores, canyissar, salobrar, platja ...

La vegetació de la bassa

Dibuixa el paisatge de la bassa i els seus voltants.
Utilitza la línia de punts com a horitzó de referència.
Com es diuen les plantes més abundants a les vores de la bassa?
Quins són els colors que predominen? Pinta el dibuix.

- Color: _____ Element: _____
- Color: _____ Element: _____
- Color: _____ Element: _____
- Color: _____ Element: _____

L'arrossar



Situa els elements de l'arrossar posant el número corresponent dins de cada cercle:

- | | |
|----------------------|-----------------------|
| 1. Quadre | 6. Boquera de sortida |
| 2. Cordó | 7. Entrador |
| 3. Séquia | 8. Mas |
| 4. Boquera d'entrada | 9. Sequer |
| 5. Desguàs | |

Encercla en el dibuix reproduït a sota en quin estat has trobat els camps d'arròs:




Camp en repòs

Camp inundat

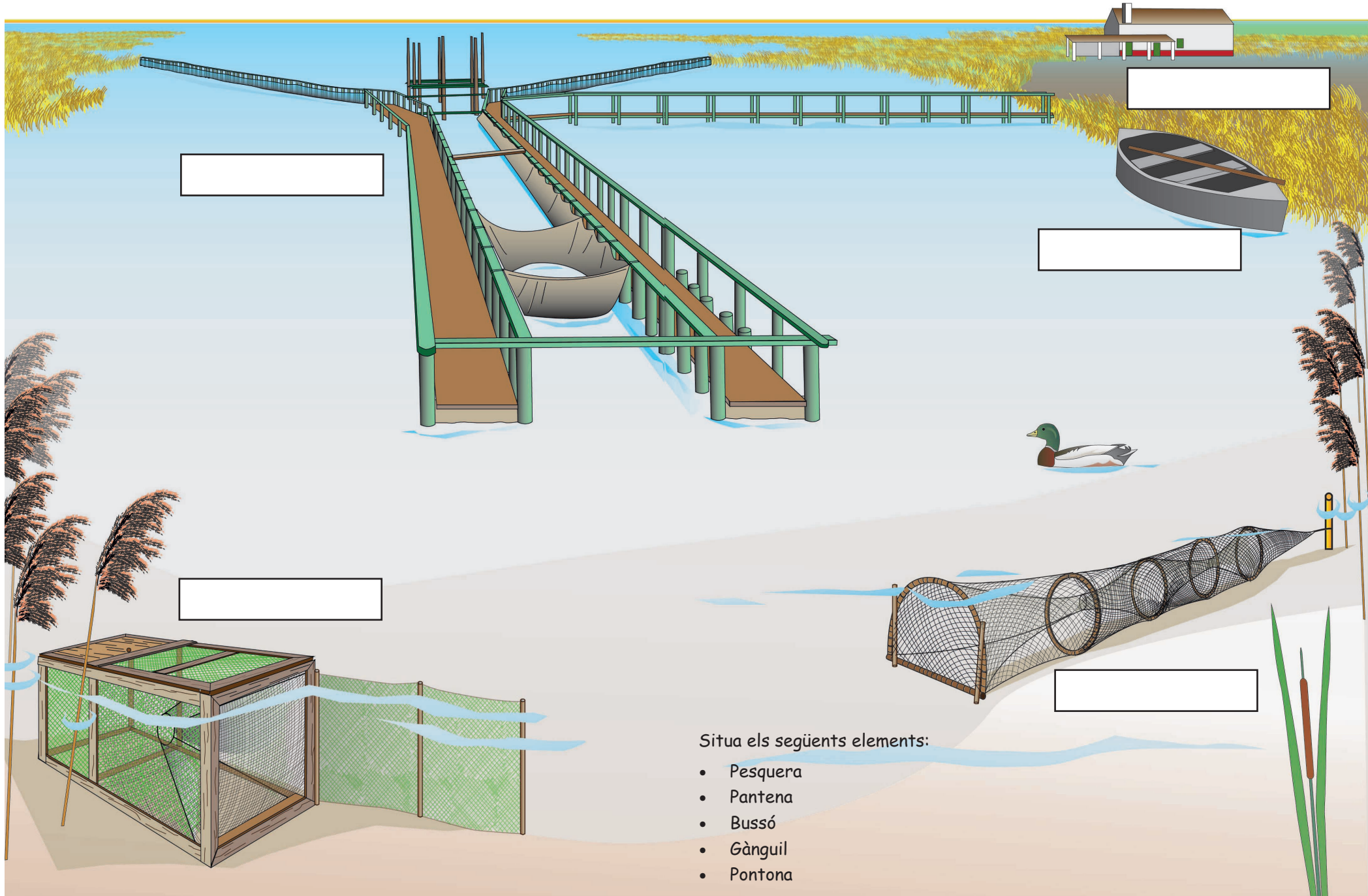
Sembra/plantada de l'arròs

Arròs espigat

Camp segat (rostoll)



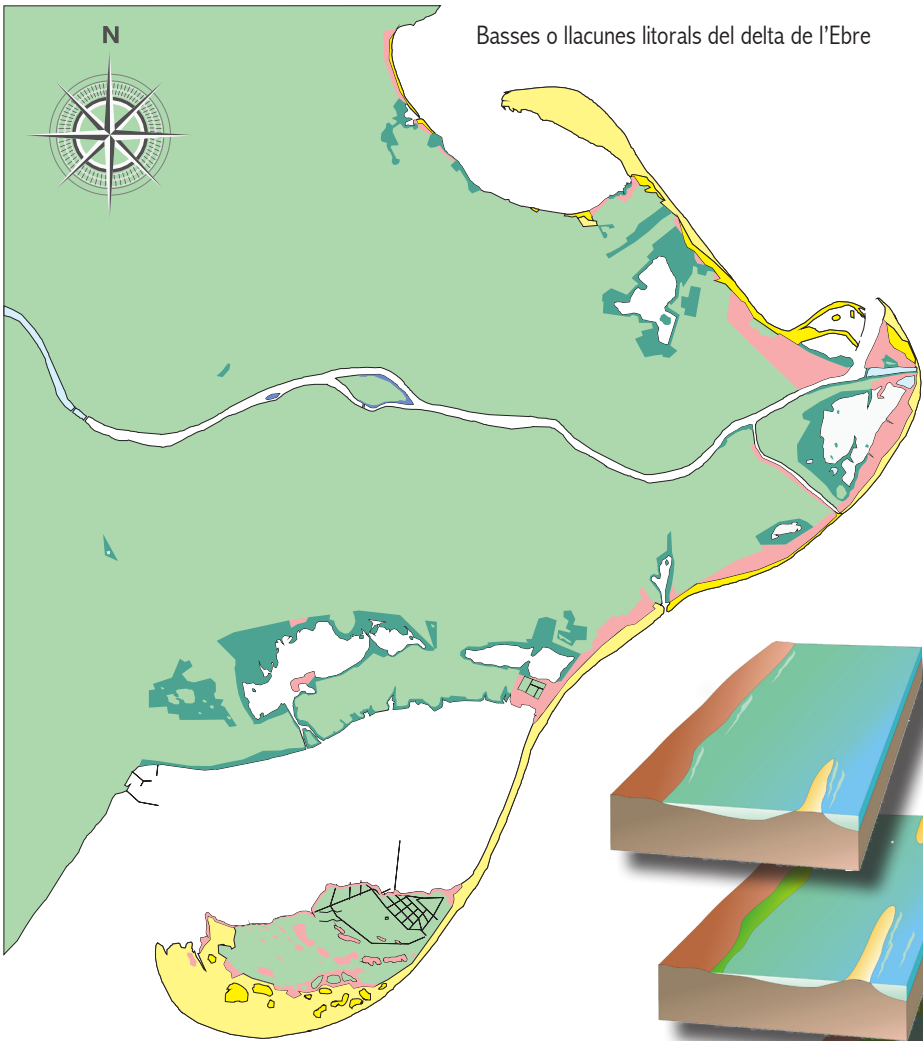
La pesca a les basses



Situa els següents elements:

- Pesquera
- Pantena
- Bussó
- Gànguil
- Pontona

Basses o llacunes litorals del delta de l'Ebre



Situa al mapa les basses del Delta:

- L'Encanyissada
- L'Alfacada
- Els Calaixos de Buda
- Les Olles
- La Tancada
- El Canal Vell
- La Platjola
- El Garxal

Formació i evolució d'una llacuna litoral a partir d'una barra de sorra litoral