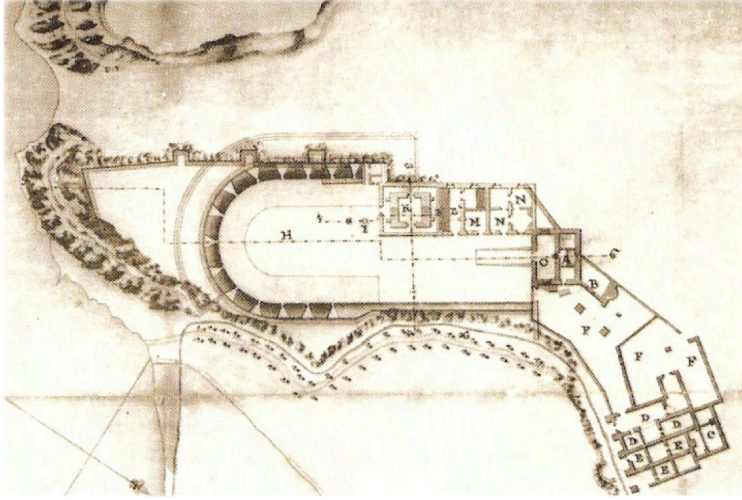


LA RÀPITA

PROJECTE IL.LUSTRAT



Quadern de treball
Cicle Superior de Primària / Primer Cicle d'ESO

Camp d'Aprenentatge del delta de l'Ebre



1 L'ÈPOCA ROMANA

s. I

Quin és el primer indici de poblament a l'actual terme de la Ràpita?

Quin és el primer indici romà?

👉 Observa: Veus algun element al paisatge que pugui fer la mateixa funció en l'actualitat que feia abans l'element anomenat en el punt anterior?

📍 La Via Augusta

2 FRONTERA D'AL-ANDALUS

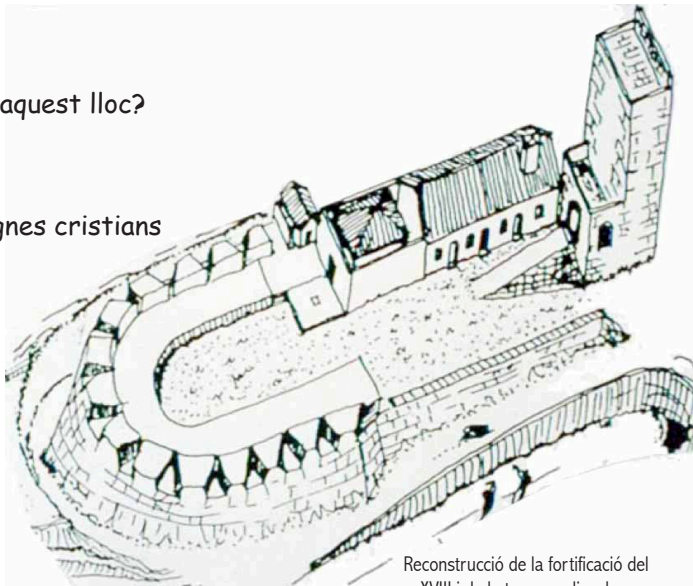
s. XI

Saps quines funcions tenia la Ràbida?

Què va passar amb l'edificació i la torre?

👉 Què hi ha ara en aquest lloc?

📍 Taifes àrabs i regnes cristians



Reconstrucció de la fortificació del s. XVIII i de la torre medieval

3 LES MONGES SANTJOANISTES s. XIV

Quins eren els ports naturals d'on sortien les flotes de la corona catalanoaragonesa?

Com es diu el convent que es va aixecar al costat de la torre?

Quin orde religiós l'ocupava?

👉 Quin element queda en l'actualitat del convent? Dibuixa'l.



📍 Els ordes religiosos

4 TORRES I PIRATES

s. XVI

Quina era l'activitat econòmica més important al Delta en aquell moment?

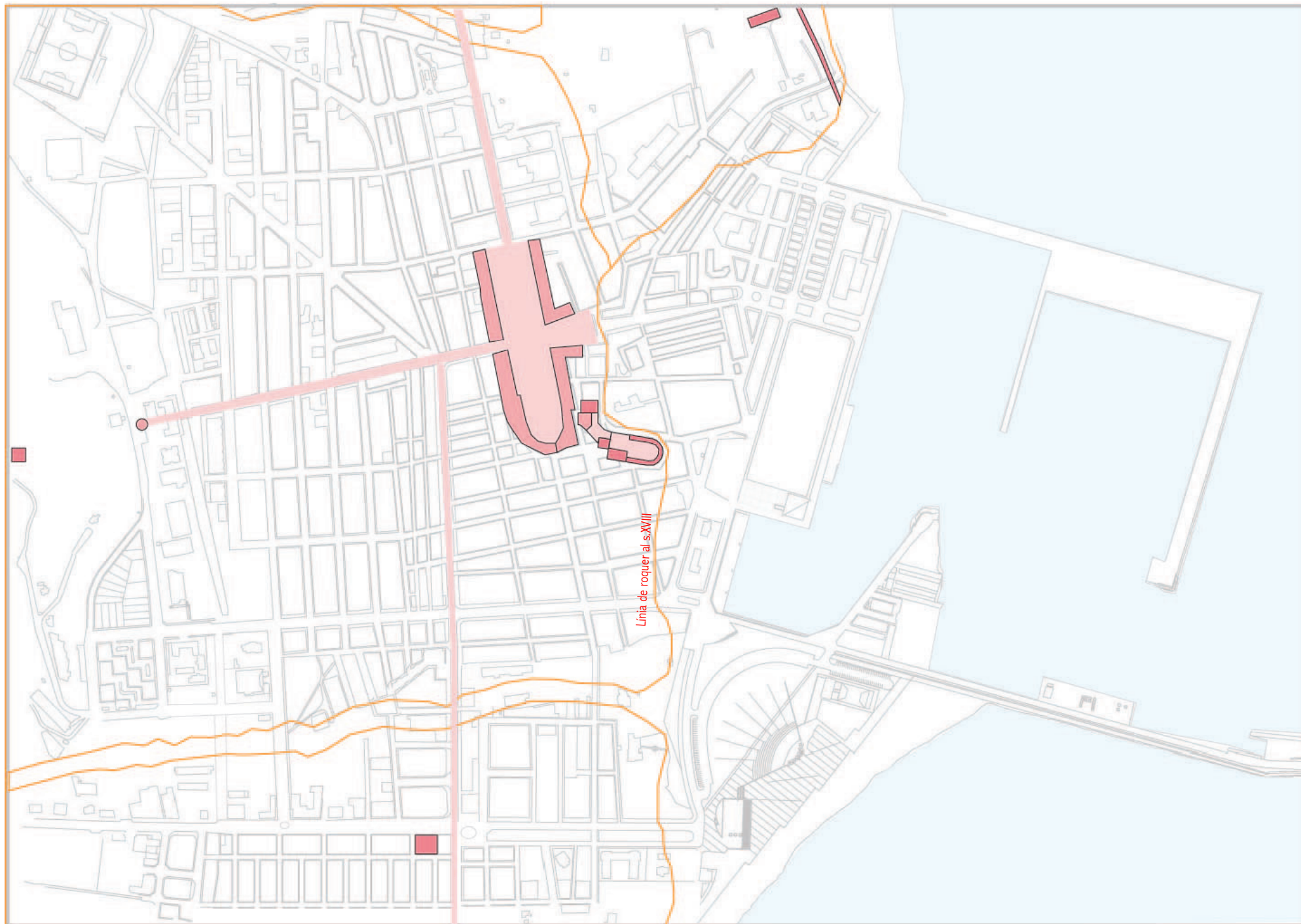
D'on venien els pirates que atacaven la costa?

Què hi havia a la costa per protegir-se dels pirates?

👉 La muralla de la bateria de canons és recta o inclinada? Saps per què?

📍 Les torres de defensa a l'Ebre

Situa i anomena els edificis històrics treballats al lloc on són o on eren, i numera els llocs on has estat.



5 LA REIAL POBLACIÓ

s. XVIII

Què es va començar a construir el 1780 en aquest lloc?

Quina finalitat tenien aquestes obres?

Com es diu el primer cap de les obres?

D'on ve el nom que s'havia de donar a la reial població?

👉 Descriu la façana de Casa Laureano.

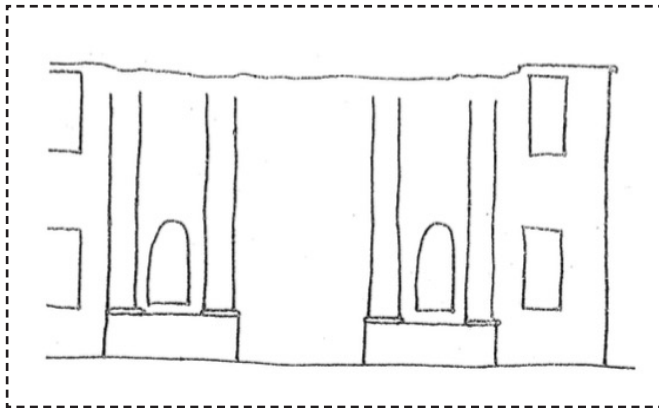
📄 La Il·lustració

6 ABANDONAMENT DE LES OBRES s. XVIII

Per què s'abandonen les obres de la reial població?

Per a què havia de servir aquest edifici inacabat?

👉 Acaba el dibuix de l'edifici.



📄 L'estil neoclàssic

7 SEGON CANAL I COLONITZACIÓ s. XIX

Com es diu l'empresa que va obrir el Canal Marítim a la navegació el 1852?

Per a què servia l'edifici de la Casota? I actualment?

👉 De quins materials està feta la resclosa?

📄 Colonització agrícola del Delta

8 LA RÀPITA MARINERA s. XX

Quin escriptor va néixer al barri mariner?

Quina era l'activitat econòmica més important a principis del s. XX?

I del XXI?

👉 Dibuixa alguna de les capelles que es veuen a les façanes del barri de pescadors.



📄 Sebastià Juan Arbó



© CdA delta de l'Ebre
1a edició: desembre 2016

Il·lustració: Paco Carles i Guàrdia

Pla del Monestir de la Maregana
publicat el 2008