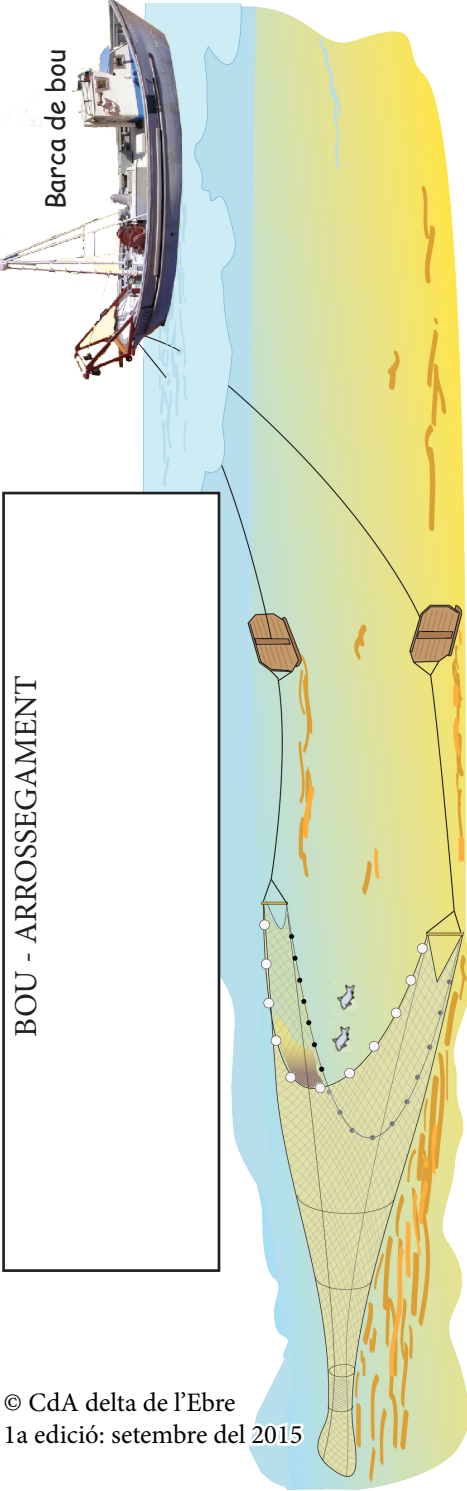


Barca de bou

BOU - ARROSSEGAMENT



Lluç (*merluccius merluccius*)



Sorell (*Trachurus sp.*)



Mòllera (*Trisopterus minutus*)



Cabeçut, llissa llobarrera (*Mugil cephalus*)



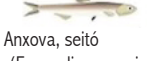
Verat (*Scomber scombrus*)



Moll (*Mullus surmureletus*)



Sardina (*Sardina pilchardus*)



Anxova, seitó (*Engraulis encrasicolus*)



Rap (*Lophius sp.*)



Llenguado (*Solea solea*)



Cranc de fons (*Geryon longipes*)




Escamarlà (*Nephrops norvegicus*)



Caragol punxenc (*Murex brandaris*)



Llagostí (*Melicertus kerathurus*)



Canyut, navalla (*Ensis siliqua*)



Grumol, cloïssa (*Tapes decussatus*)



Gamba rosada (*Aristeus antennatus*)



Polp, pop roquer (*octopus vulgaris*)



Canana (*Todarodes sagittatus*)

Il·lustracions peixos: Maria Lopez Montes en <http://www.dival.es/va/normalitzacio/content/peix-i-marisc>

LA PESCA A LA RÀPITA

Àmbit MAR

3



Vés al mercat o a una peixateria per veure els peixos i mariscs que surten en aquesta llista.

Investiga les diferències entre la pesca d'arts menors i la d'arrossegament, tenint en compte els efectes que provoquen sobre l'ecosistema marí.

Per què es pesca més a la Ràpita que en altres ports? Per què s'ha reduït la flota pesquera a la meitat els darrers 30 anys?

Quadern de treball
Cicle Superior de Primària /
1r Cicle d'ESO

Amb la col·laboració de:

Museu de la
Mar de l'Ebre



Camp d'Aprenentatge del delta de l'Ebre



Museu de la Mar

1 ELS MOL-LUSCS. Escriu el nom de mol·luscs d'interès comercial:

Gasteròpodes: _____

Bivalves: _____

Cefalòpodes: _____

2 ELS PEIXOS. Escriu el nom de peixos de cada hàbitat:


peix de fons sorrenc: _____

Peix de fons rocós: _____

Peix d'alguer: _____

peix d'aigües obertes: _____

3 ELS CALADORS. Situa sobre el mapa els llocs on pescar sardines, llenguados i llagostins



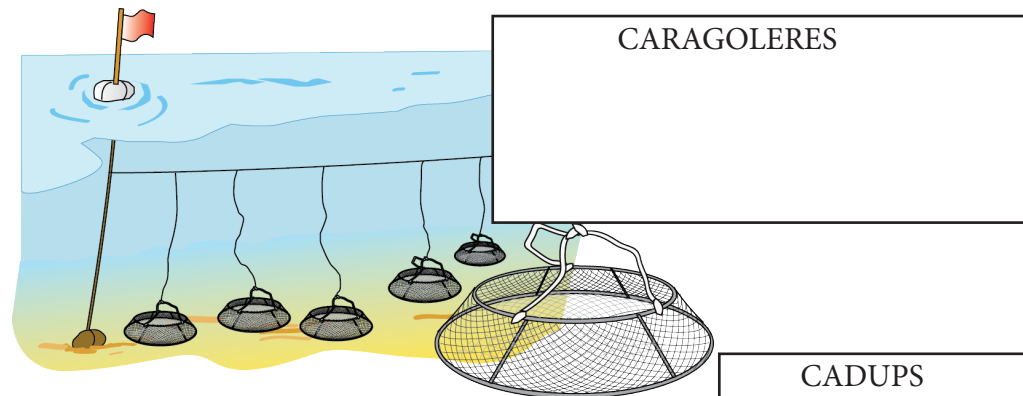
4 ELS PERILLS DE LA MAR. Per què moltes embarcacions embarracaven i, fins i tot, eren engolides per les ones i la sorra?

5 Saps per a què serveixen aquests objectes exposats? :


"Quinqué": _____

"Escandall": _____

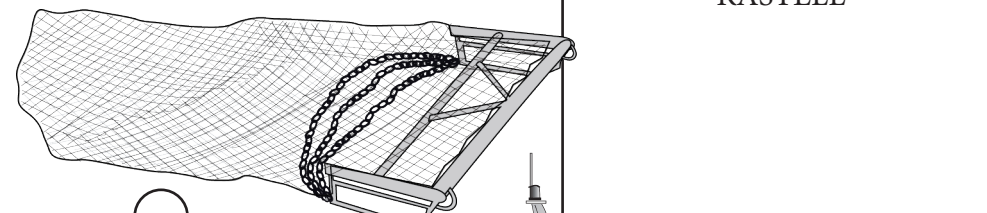
"Fusell llençacaps": _____



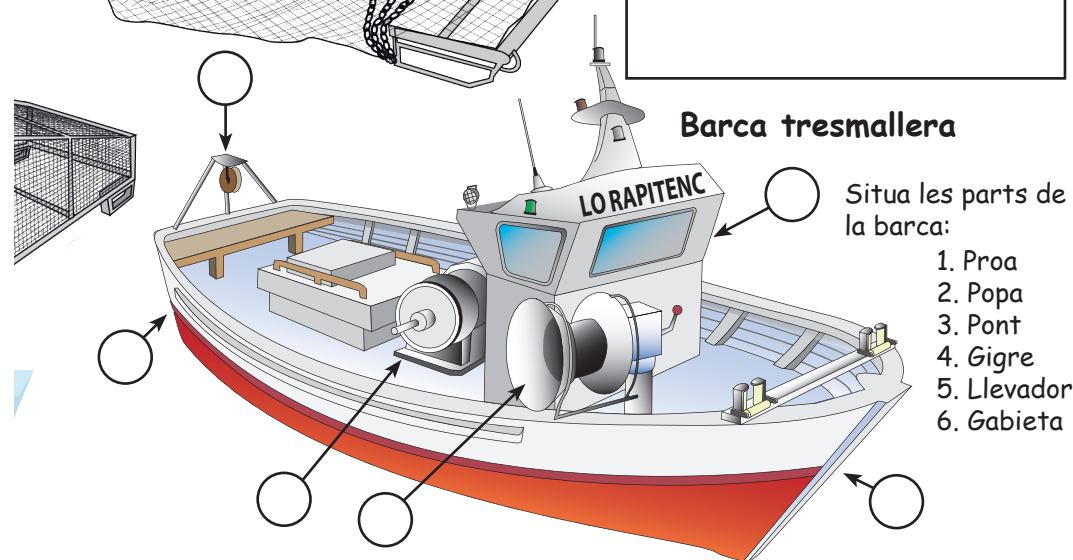
CARAGOLERES



CADUPS



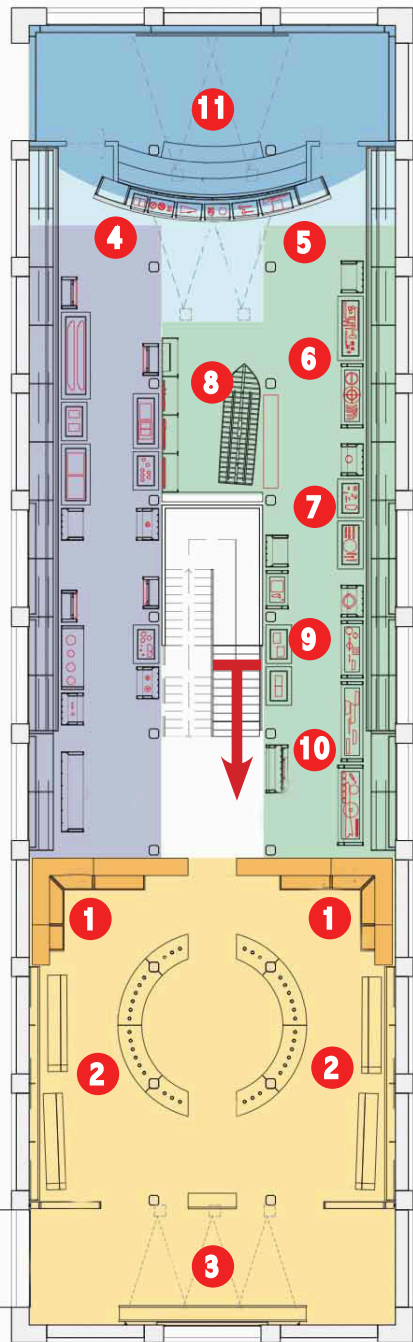
RASTELL




Barca tresmallera

Situa les parts de la barca:

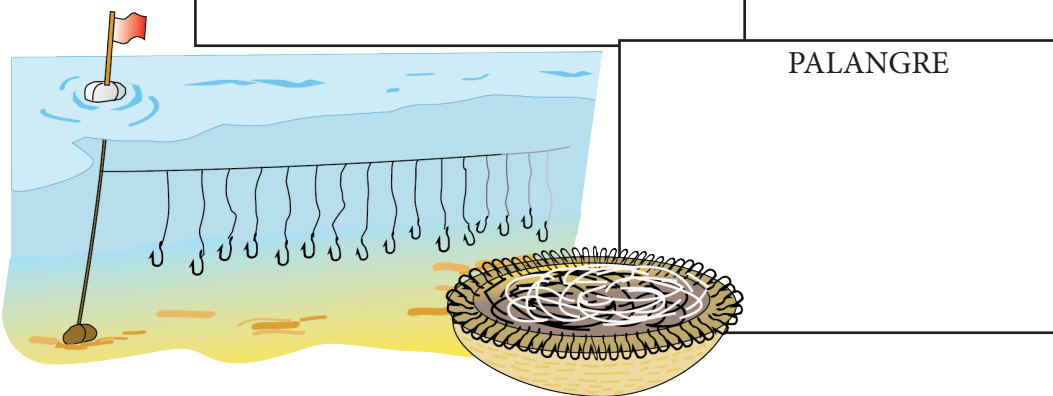
1. Proa
2. Popa
3. Pont
4. Gigre
5. Llevador
6. Gabieta



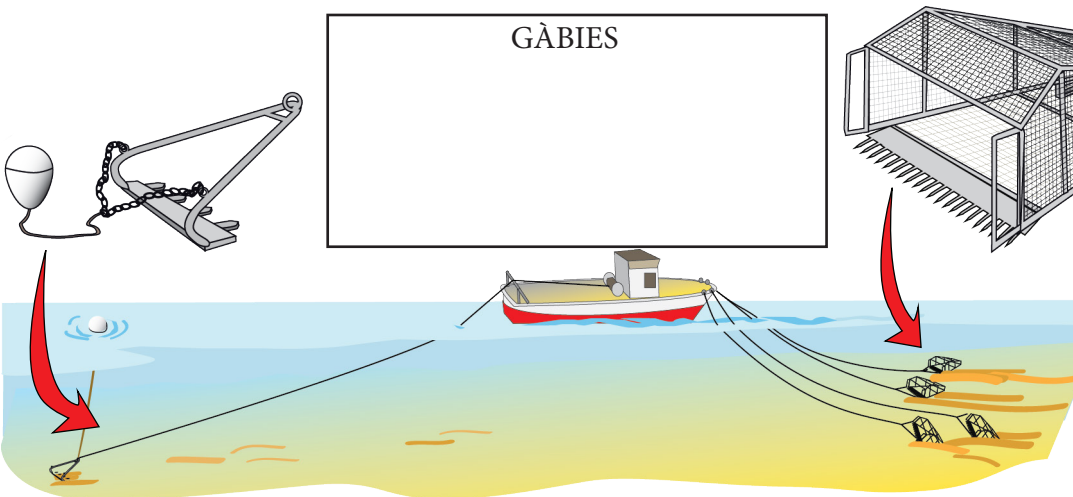
Els arts de pesca



TRESMALL



PALANGRE



GÀBIES


6 OFICIS AUXILIARS. Esmenta alguns dels oficis auxiliars dels mariners:

Qui va ser el darrer filador de la Ràpita? _____

7 ELS ESTRIS. De les peces que pots veure en les vitrines, quina et sorprèn més? Per què? _____

8 CONSTRUCCIÓ DE BARQUES. G. Carcellé Arasa ens explica que es necessitaven _____ homes per varar una barca el 1981. I abans que hi hagués tractors? _____ I ara? _____ Quan durava la construcció d'una barca de fusta? _____

9 LA PESCA. Anota els arts de pesca que enumerava Cristòfol Despuig i dibuixa'n un en el quadre de la dreta:



10 ELS PESCADORS. Quines són les funcions dels pòsits i les confraries de pescadors? _____

11 EL VÍDEO. Al documental surten dos tipus d'embarcacions de pescar: una barca de tresmall i una de bou. Sabries dir algunes diferències entre aquests dos tipus de pesca? _____

Al Vídeo s'empren algunes paraules típiques de la mar. Saps què volen dir les següents?: "vogar": _____ "xorrar": _____

Quines espècies captura l'embarcació d'arrossegament? _____

Com s'anomena la patrona dels mariners de la Ràpita? _____

A quina hora comença i a quina hora acaba la jornada d'un mariner? _____


Quina és per a tu la part més dura de la feina d'un mariner? _____

Subhasta del peix a la Llotja



4. Els arrieros o compradors tenen un comandament des

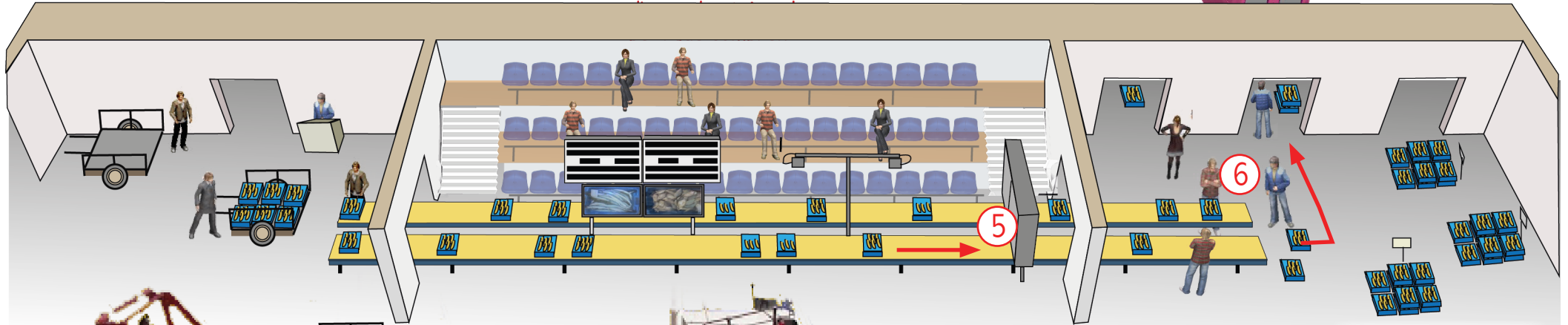
7. Finalment les caixes es carreguen en els camions i furgonetes, i es transporten al seu destí



7


Anota els llocs de destinació dels vehicles, a partir de les matrícules o els rètols comercials:

Furgonetes: _____ Camions: _____



6. Al final de la cinta, els arrieros recullen i apilen les caixes comprades i les guarden als seus magatzems.

Quants arrieros diferents veus?



peix de la barca en caixes.

Digues el nom de dos barques de bou: _____



2. Les caixes es carreguen a la cinta, segons l'ordre d'arribada de la barca a l'entrada del Port. Cada caixa té una targeta amb les dades del peix i la barca.

Reconeixes algun peix o marisc?: _____

ESPECIE	
PREU	
EUROS	PTES
QUILOS	CAIXES
COMPRADOR	

3. Les pantalles mostren una imatge en vídeo de la caixa, i la informació del peix i la barca. També es mostra el preu, que va baixant progressivament, fins que s'atura en la xifra que algun comprador ha escollit.

Fixa't en una subhasta. Copia a l'esquerra el text d'una de les pantalles.



5. Damunt de la cinta està l'etiquetadora, que deixa anar una targeta a cada caixa amb el nom del comprador i el preu fixat.