

# EL GARXAL UN DELTA EN MINIATURA

Àmbit DELTA

1



Quadern de treball  
Cicle Mitjà i Superior de Primària

Amb la col.laboració de:



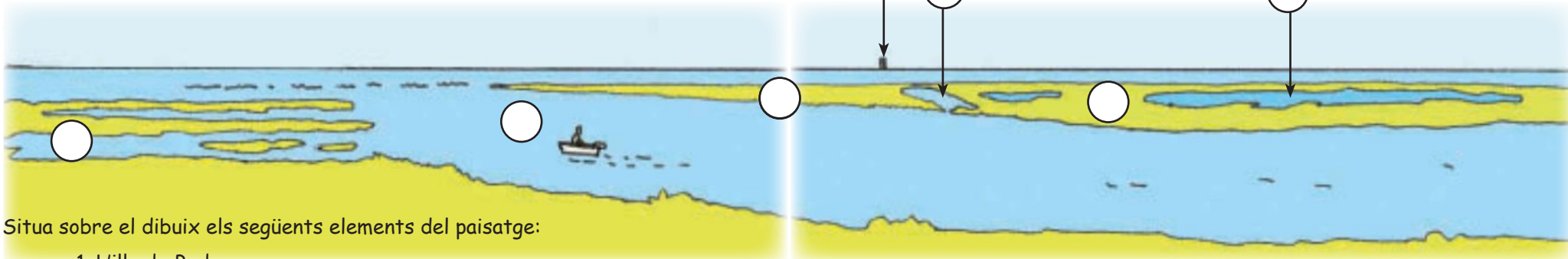
Parc Natural  
del Delta de l'Ebre

Camp d'Aprenentatge del delta de l'Ebre





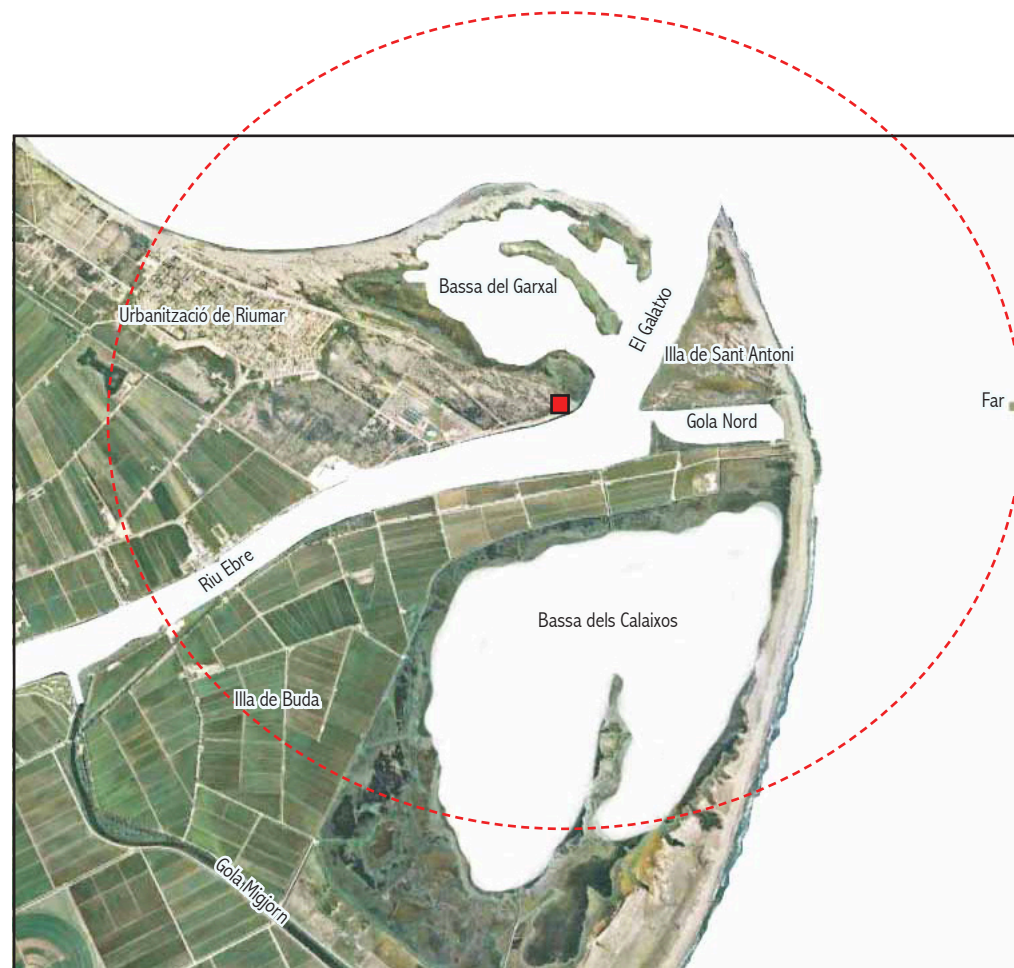
# La desembocadura del riu



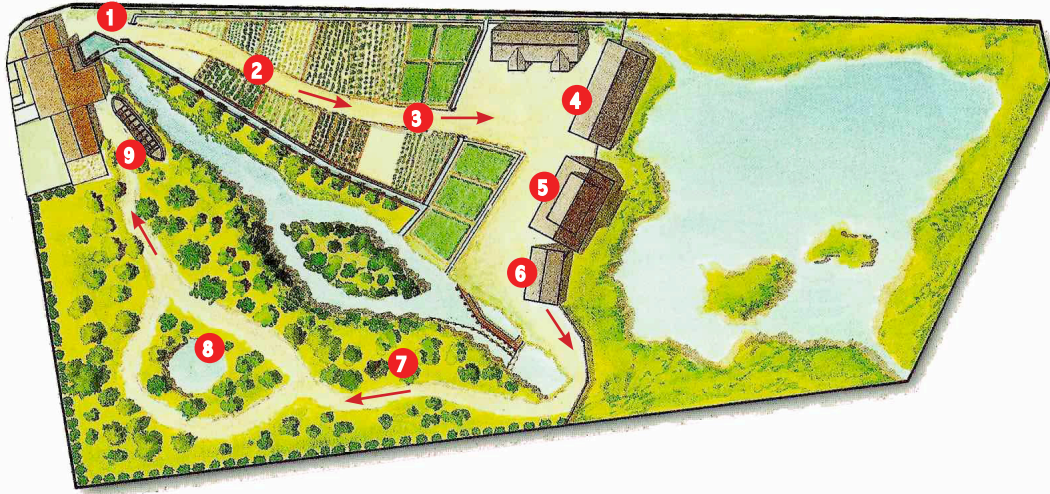
Situa sobre el dibuix els següents elements del paisatge:

1. L'illa de Buda
2. La bassa de nova formació del Garxal
3. El Galatxo
4. La bassa dels Calaixos de Buda
5. El far de Buda
6. L'illa de Sant Antoni
7. L'antiga desembocadura o gola Nord

## Desembocadura de l'Ebre l'any 1927



# L'Ecomuseu



**1** L'assut i la xarxa de canals. L'assut és una espècie de presa on part de l'aigua del riu és desviada cap als canals. L'aigua d'aquests canals serveix per a regar els conreus del Delta.

**2** Aquí tens uns conreus d'horta, fruiters i altres plantes. Apunta el nom de dues hortalisses i dos arbres fruiters:

**3** Aquí tens uns arrossars, conreus molt importants al Delta perquè ocupen la major part de la seva extensió. Fixa-t'hi bé i explica com es troba ara el camp.

**4** En aquesta barraca pots observar tranquil·lament les aus aquàtiques de la llacuna sense destorbar-les. Anota el nom de dues d'aquestes aus:

**5** A l'aquarama trobaràs molts peixos, amfibis i rèptils que viuen a les aigües del Delta. Anota el nom de tres peixos que visquin sempre al fons. Quina forma i color tenen?

Nom..... forma..... color.....

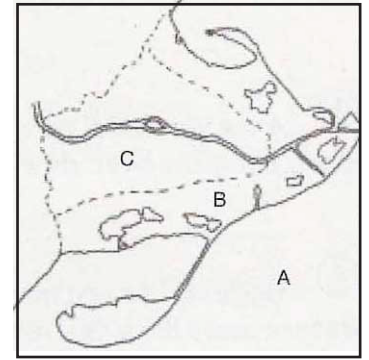
Nom..... forma..... color.....

Nom..... forma..... color.....

Marca amb ...

ratlles les **aigües dolces**: riu, canals i arrossars.  
punts les **aigües salobres**: llacunes i desembocadura del riu.

Deixa en blanc les **aigües salades**: mar i badies.




Anota on viuen aquests peixos:

	aigües dolces	aigües salobres	aigües salades
anguila			
llissa			
carpa			

Anota el nom de dos grans peixos depredadors del riu i digues per què creus que són aquests:

Escriu el nom d'aquests tres peixos característics del riu:




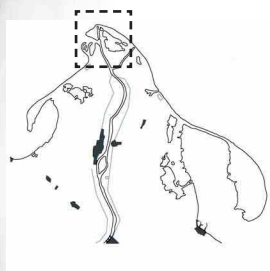
**6** Els pescadors del Delta utilitzen diferents tipus d'arts i xarxes per a pescar al riu, llacunes i canals. Fixa't en les arts que trobis. Dibuixa un bussó en el quadre de la dreta. ----->

**7** A les vores del riu i a les illes fluvials creixen uns arbres que formen el que s'anomena **bosc de ribera**. Anota el nom de dos d'aquests arbres:

**8** Un "ullal" és una mena de petita bassa de forma rodona que es troba en determinats llocs del Delta.

**9** Escriu el nom d'aquesta **barca de fusta** i explica quina era la seva utilitat.





© CdA delta de l'Ebre  
2a edició: setembre del 2016