

QUADERN DE TREBALL

PRIMÀRIA

NOM:

VIA T G E M C A P A L R O M À N I C



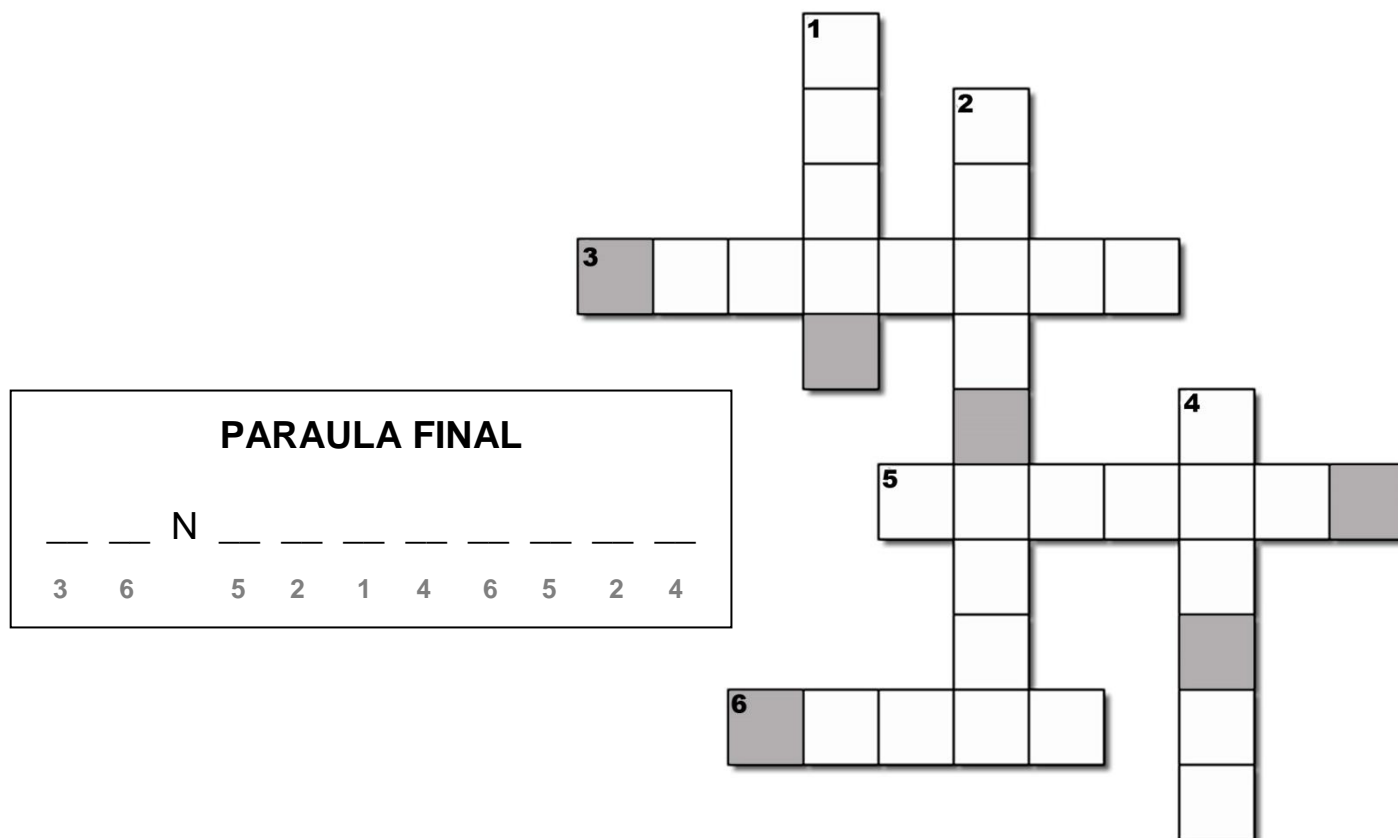
CAMP D'APRENTATGE DE LA VALL DE BOI

Quadern de treball del Camp d'Aprenentatge de la Vall de Boí

Setembre 2020

COM PARLEN LES PEDRES DEL ROMÀNIC?

Al finalitzar l'activitat hauries de ser capaç de resoldre el següents mots encreuats. Quina és la paraula final amagada?




- 1.- Les pintures murals de Sant Climent estan pintades directament sobre les parets. Com se'n diu de la tècnica que van fer servir per pintar-les?
- 2.- Quin és l'animal imaginari que té potes de cabra, cap de gos i el llom com un ós que està pintat a les parets de St. Joan de Boí?
- 3.- Roca molt impermeable que es trenca fent làmines utilitzada en la construcció de les esglésies, sobretot per fer les teulades.
- 4.- Roca tallada pels picapedrers amb forma rectangular, per poder fer les parets de les esglésies.
- 5.- Quin animal pintat a St. Joan de Boí representa la virtut de la força de voluntat?
- 6.- La forma de les parets té un significat: com es diu la part de l'edifici semicircular que representa el lloc més sagrat de l'església?

LES PARETS

Els dibuixos que tens a continuació representen les característiques que poden tenir les parets d'una església, i s'anomenen "aparell". Ordena'ls de més antic a més modern i uneix-los cadascun amb les seves característiques:



Quan una roca ha estat treballada per un picapedrer i li ha donat forma de bloc, passa a anomenar-se _____



Tipus romà



Tipus isòdom



Irregular

- Tots els carreus tenen exactament la mateixa mida.
 - Els carreus són de formes i mides molt diferents.
 - No hi ha cap ordre en la col·locació dels carreus
 - Els carreus formen files perfectes
 - Estan col·locats en files més o menys rectes
- Els blocs de pedra són bastant quadrats però de mides diferents

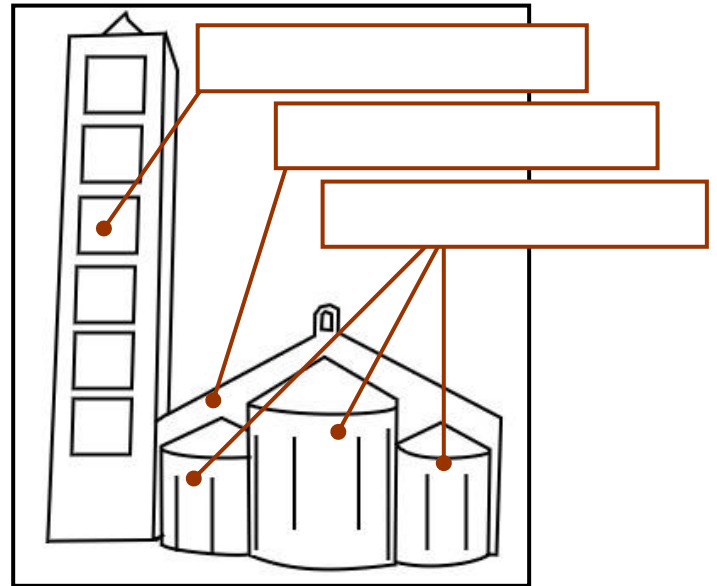
Tenint en compte les respostes anteriors, digueu amb quins tipus d'aparell van construir Sant Climent de Taüll i esbrina per què:

ENIGMA DE LES PARETS:

LES DIFERENTS PARTS

Relacioneu les diferents parts amb la descripció que correspongui i després situeu-les en el requadre corresponent:

Absis	Torre on estan posades les campanes
Campanar	Espai interior destinat als fidels
Nau	Construcció semicircular situada a la part del darrere de l'església




ENIGMA DE L'ABSIS:



LES FINESTRES

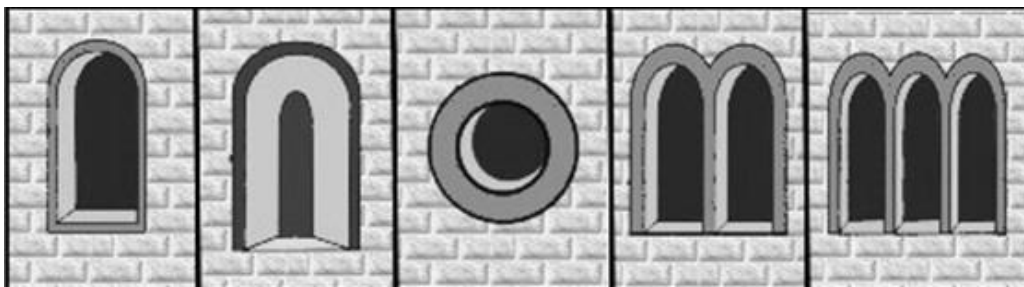
Quin tipus d'arc s'ha utilitzat per construir les finestres?



mig punt

apuntat

de ferradura



mig punt
recta

mig punt
esqueixada


òcul

geminada

tripartida

Hi ha diferents tipus de finestres. Dibuixeu en cada espai en blanc de la pàgina següent les que hi corresponguin

ENIGMA DEL CAMPANAR:



ELS MATERIALS

L'església està construïda amb diferents materials constructius, tots ells provinents de la Vall de Boí i aptes per treballar amb les eines de l'època. Quins són aquests materials i per què són diferents segons la part de l'església? Completa el següent esquema:

ESCALES I SOSTRES INTERIORS

Material: _____

-
-
-

TEULADA

Material: _____

-
-
-



PARETS

Materials: _____ i

-
-
-

ELEMENTS DECORATIUS

Material: _____

-
-
-

LA PINTURA ROMÀNICA ÉS...

Marca els **adjectius** que millor defineixen la pintura romànica:

Ordenada

Colorida

Realista



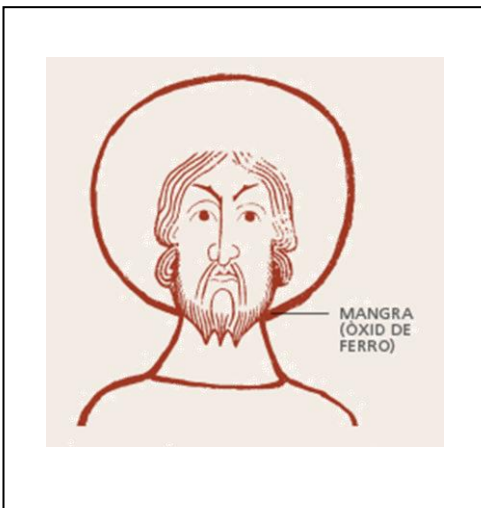


Expressiva

Naturalista

Frontal

EL FRESC

Explica a través de les següents vinyetes, com si fos un conte, com es van pintar els murals d'aquestes esglésies:



QUÈ ÉS QUI?

Escull per cada bèstia els **hashtags** que creus que la descriuen:

#sócDéu #humiltat #força #mitològic #malrotllo #bonrotllo
#sóceldimoni #realitat #poder #terror #virtut #defecte



#

#



#

#



#

#



#

#



#

#



#

#



Generalitat de Catalunya
Departament d'Educació

