


QUADERN DE TREBALL

PRIMÀRIA

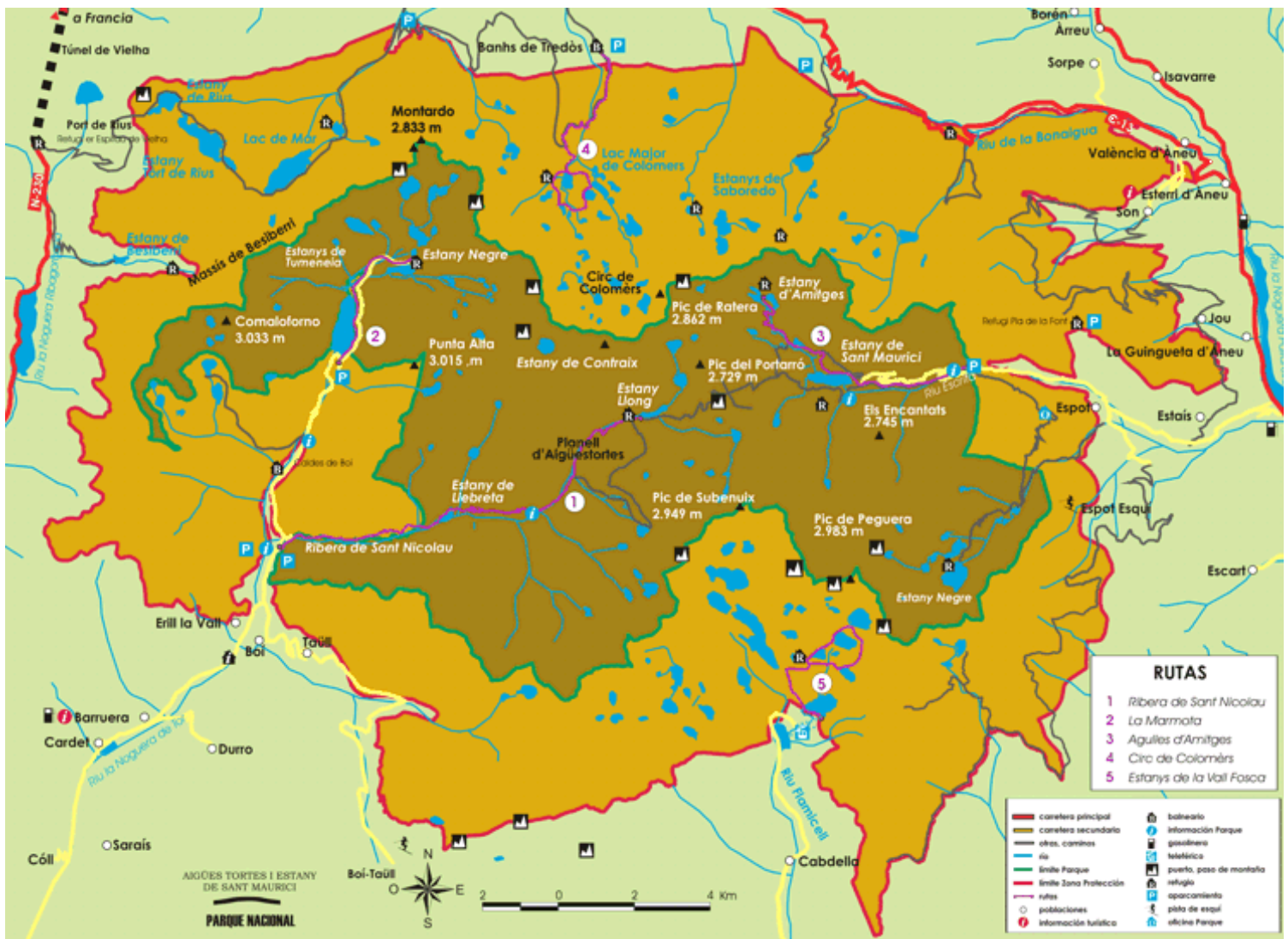
NOM:

ANEM A AIGÜESTORTES



CAMP D'APRENTATGE DE LA VALL DE BOI

BENVINGUTS AL PARC NACIONAL D'AIGÜESTORTES!



Mapa del Parc Nacional, amb la zona central en marró i la zona perifèrica en taronja



Quin és el cim més alt del Parc?

Quina és la superfície total del Parc?

A quines comarques pertany?

Motius de protecció:

Usos permesos:

EL BINGO DEL PARC


Marca els animals, plantes o altres elements dels quals n'anem detectant la seva presència al llarg de l'itinerari. Apunta al costat del nom si l'has vist (V), sentit (S) o n'has trobat algun rastre o resta de menjar (R):




Porc senglar




Marmota



Guineu



Isard



Gat fer



Teixó



Esquirol



Picot garser




Marta



Ànec collverd



Picot negre



Picot verd



Pela-soques



Mallerenga carbonera



Mallerenga blava



Pinsà



Trencapinyes




Mallerenga emplomallada



Mallerenga petita



Àguila daurada



Voltor



Trencalòs



Granota roja



Gripau comú



Tritó pirinenc



Llúdriga



Truita comuna



Barb roig



Eскурçó pirinenc



Sargantana roquera



Viola d'aigua



Safra de muntanya



Gerdera



Cabirol



Granit

Avet



Vaca bruna



Cep





Rovelló



Rússula

TARTERES I DIABLORINS



Quin és l'agent geològic principal que ha modelat aquest paisatge?

Identifica'n les seves empremtes des de l'estany de Llebreta:


- A.- Roca moltonada
- B.- Pic piramidal o Horn
- C.- Cresta glacial
- D.- Tartera
- E.- Estany de Llebreta

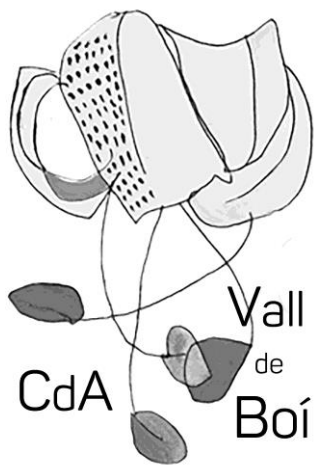


Marca quina forma té el relleu actual de la Vall:



Dedueix què és un “bloc erràtic” a través del següent jeroglífic:





Quadern de treball del Camp d'Aprenentatge de la Vall de Boí

Setembre de 2018

Il·lustracions de fauna: Toni Llobet



**Generalitat de Catalunya
Departament d'Educació**

Amb la col·laboració de



**Parc Nacional
d'Aigüestortes
i Estany de Sant Maurici**