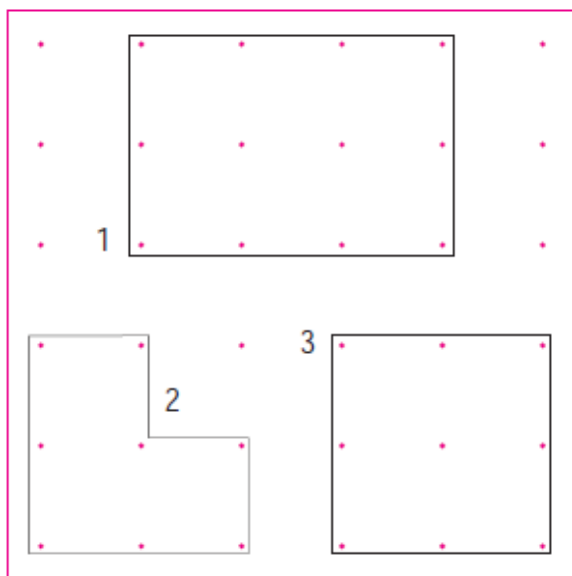


Repte 1

Observa les tres figures que hi ha representades en el geoplà. A cop d'ull, quina figura et sembla que ocupa una superfície més gran?, i quina figura ocupa una superfície més petita?






Compta quants centímetres quadrats mesura cada figura i escriu-ho:

Figura 1:

Figura 2:



Figura 3:

Hi pot haver figures diferents que mesurin la mateixa superfície? En cas afirmatiu, representa tres figures de forma diferent però que ocupin la mateixa superfície en els tres geoplans següents:



Repte 2

Construeix, en els dos geoplans, dues figures de forma diferent que tinguin una superfície de 8 cm².



Repte 3

Fixa't en la figura que hi ha en cada geoplà. Després, construeix dues figures en el teu geoplà, l'una amb el doble de superfície i l'altra amb la meitat. Dibuixa-les en el geoplà que hi ha al costat.

