
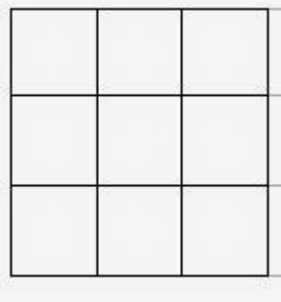
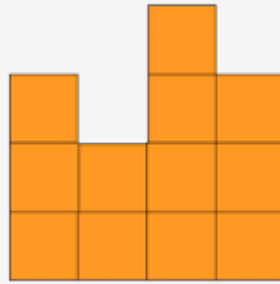


24	<h2 style="text-align: center;">Proposta de treball: perímetre i àrea</h2>	
Edat mínima recomanada	6è primària endavant	
Nombres d'alumnes participants	Individualment o per parelles	
Descripció del material	<ul style="list-style-type: none"> ◆ Taulell quadrat, ◆ 16 quadrats. 	
Objectiu de l'activitat.	<p>1. A la graella cada quadre mesura una unitat. Col·loca les peces de manera que quedi una figura única sense forat, de 12 cm de perímetre. Quantes solucions diferents pots trobar?</p> <div style="text-align: center;">  </div> <p>2. Si fem el mateix repte sense restricció de plantilla, és a dir, que podem fer servir la plantilla que vulguem. Quantes solucions hi ha més?</p> <p>3. Quines seran les possibilitats si busquem rectangle de 6 unitats al quadrats, sense plantilla?</p> <p>4. Repte:</p>	



$P = 18$



On podem col·locar aquest quadret blau perquè no variï el seu perímetre, perquè disminueixi o perquè augmenti?